

絶対暗記するプリント

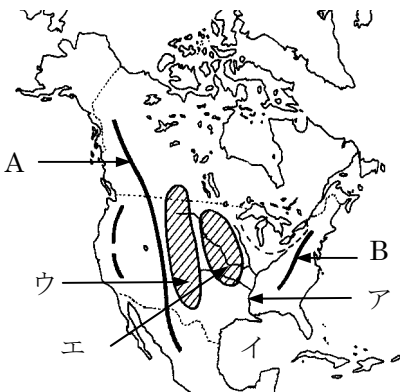
アメリカ合衆国 ① [基礎]

実施

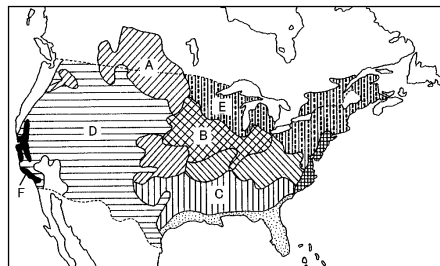
氏名

- ① [地図1]中のA・Bの山脈はそれぞれ何ですか。 A(ロッキー山脈) B(アパラチア山脈)
- ② [地図1]中のアの河川とイの湾はそれぞれ何ですか。 ア(ミシシッピ川) イ(メキシコ湾)
- ③ [地図1]中のウの平原を何とといいますか。 (グレートプレーンズ)
- ④ [地図1]中の中央平原に広がる草原を何とといいますか。 (プレーリー)
- ⑤ イの湾岸をしばしば襲う暴風雨を何とといいますか。 (ハリケーン)

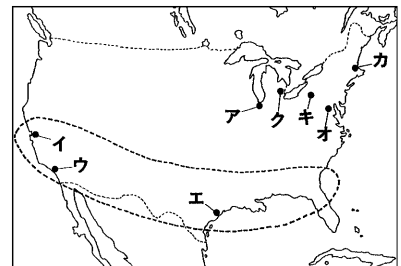
[地図1]



[地図2]



[地図3]



- ⑥ アメリカの農業の特徴で、その土地に適した作物を作る農業を何とといいますか。 (適地適作)
- ⑦ [地図2]のA~Cの地域で生産されている農作物はそれぞれ何ですか。 A(小麦) B(とうもろこし) C(綿花)
- ⑧ 冷涼な[地図2]のEの地域で行われている農業は何ですか。 (酪農)
- ⑨ 地図中のFで行われている大規模な灌漑による農業を何とといいますか。 (地中海式農業)
- ⑩ アメリカにおいて、農業地域と牧草地域Dとを分ける経線は西経何度ですか。 (西経 100 度)
- ⑪ メキシコ湾岸やカリフォルニア地方でよく採れる鉱産資源は何ですか。 (石油)
- ⑫ 五大湖周辺でよく採れる鉱産資源は何ですか。 (鉄鉱石)
- ⑬ アパラチア地方でよく採れる鉱産資源は何ですか。 (石炭)
- ⑭ [地図3]のクの都市ピッツバーグではどんな種類の工業がさかんですか。 (鉄鋼業)
- ⑮ 自動車産業が最も盛んな地図中の都市は何ですか。 (デトロイト)
- ⑯ [地図3]の ○ で表された北緯37度以南の新しい工業地域を何とといいますか。 (サンベルト)
- ⑰ サンフランシスコ近郊のサンノゼは電子工業が盛んなことから何とといいますか。 (シリコンバレー)
- ⑱ 太平洋岸にある航空機・映画産業が盛んなアメリカ第2の都市は何ですか。 (ロサンゼルス)
- ⑲ アメリカの人種構成は複雑であることから、何と呼ばれていますか。 (人種のサラダボウル)
- ⑳ かつては狩猟や漁による生活をしていた北極海沿岸に住む人々を何とといいますか。 (イヌイット)
- ㉑ 近年テキサスやフロリダなどの州に増加しているスペイン系の人々を何とといいますか。 (ヒスパニック)
- ㉒ ポストンからワシントンまで約700kmに及ぶ巨大都市圏を何とといいますか。 (メガロポリス)
- ㉓ 国際連合の本部があるアメリカの都市はどこですか。 (ニューヨーク)
- ㉔ 日本とアメリカなどの貿易収支がアンバランスのため生じる問題を何とといいますか。 (貿易摩擦)
- ㉕ 国境を越えて世界中に拠点をもち活動する企業を何とといいますか。 (多国籍企業)
- ㉖ アメリカの通貨「ドル」は、世界中で取引されているため一般に何と呼ばれているか。 (国際通貨)

確認テスト

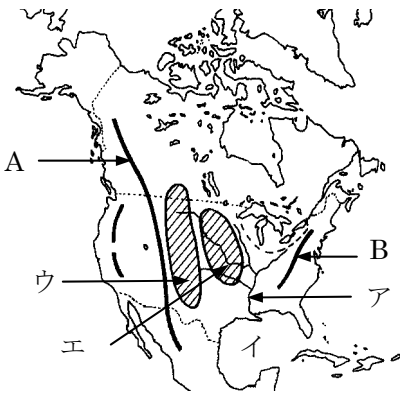
アメリカ合衆国 ①〔基礎〕

実施 /

氏名

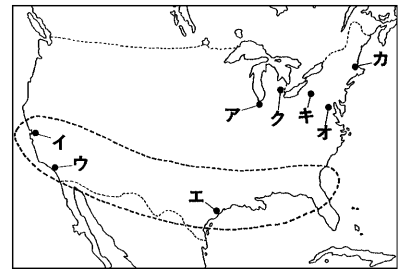
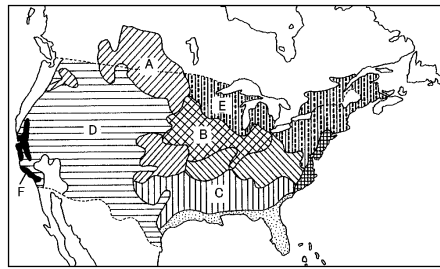
- ① [地図 1] 中の A・B の山脈はそれぞれ何ですか。 A() B()
- ② [地図 1] 中のアの河川とイの湾はそれぞれ何ですか。 ア() イ()
- ③ [地図 1] 中のウの平原を何とといいますか。 ()
- ④ [地図 1] 中の中央平原に広がる草原エを何とといいますか。 ()
- ⑤ イの湾岸をしばしば襲う暴風雨を何とといいますか。 ()

〔地図 1〕



〔地図 2〕

〔地図 3〕



- ⑥ アメリカの農業の特徴で、その土地に適した作物を作る農業を何とといいますか。 ()
- ⑦ [地図2] の A～C の地域で生産されている農作物はそれぞれ何ですか。 A() B() C()
- ⑧ 冷涼な [地図2] の E の地域で行われている農業は何ですか。 ()
- ⑨ 地図中の F で行われている大規模な灌漑による農業を何とといいますか。 ()
- ⑩ アメリカにおいて、農業地域と牧草地域 D とを分ける経線は西経何度ですか。 (西経 度)
- ⑪ メキシコ湾岸やカリフォルニア地方でよく採れる鉱産資源は何ですか。 ()
- ⑫ 五大湖周辺でよく採れる鉱産資源は何ですか。 ()
- ⑬ アパラチア地方でよく採れる鉱産資源は何ですか。 ()
- ⑭ 地図中のクの都市ピッツバーグではどんな種類の工業がさかんですか。 ()
- ⑮ 自動車産業が最も盛んな地図中の都市クは何ですか。 ()
- ⑯ 地図中の ○ で表された北緯37度以南の新しい工業地域を何とといいますか。 ()
- ⑰ サンフランシスコ近郊のサンノゼは電子工業が盛んなことから何とといいますか。 ()
- ⑱ 太平洋岸にある航空機・映画産業が盛んなアメリカ第2の都市ウは何ですか。 ()
- ⑲ アメリカの人種構成は複雑であることから、何と呼ばれていますか。 ()
- ⑳ かつては狩猟や漁による生活をしていた北極海沿岸に住む人々を何とといいますか。 ()
- ㉑ 近年テキサスやフロリダなどの州に増加しているスペイン系の人々を何とといいますか。 ()
- ㉒ ボストンからワシントンまで約 700km に及ぶ巨大都市圏を何とといいますか。 ()
- ㉓ 国際連合の本部があるアメリカの都市は、どこですか。 ()
- ㉔ 日本とアメリカなどの貿易収支がアンバランスのため生じる問題を何とといいますか。 ()
- ㉕ 国境を越えて世界中に拠点をもち活動する企業を何とといいますか。 ()
- ㉖ アメリカの通貨「ドル」は、世界中で取引されているため一般に何と呼ばれているか。 ()