

得点	<h1 style="margin:0;">演習問題</h1>	実施日	月 日	氏名
	アフリカ州 ②			

【1】右の地図を見て、次の問いに答えなさい。

(1) 右の地図中のサヘルで進行している。耕作できない土地が広がる現象を何といいますか。
()

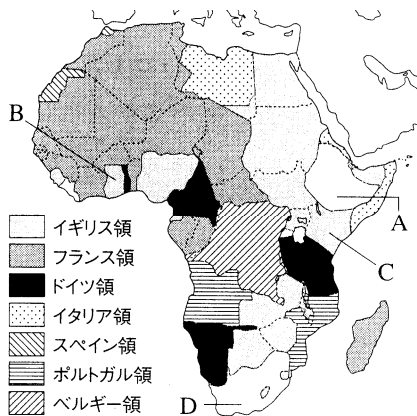
(2) サヘルと同じような気候の特色を持つ地域を、地図中のア～エから選び、記号で答えなさい。
()

(3) 地図中のサヘルより北側の地域について、次の文中の①～④にあてはまる語句を答えなさい。
①() ②()
③() ④()

世界最大の①さばくが広がり、その東側には②川が流れている。エネルギー資源の天然ガスや③が多く産出され、④教徒が多く見られる。

(4) 地図中の A の湾、B の盆地の名をそれぞれ答えなさい。
A() B()

【2】下の地図を見て、次の問いに答えなさい。



(1) 20 世紀初めのアフリカは、地図のように外国に分割されていた。このように、外国に支配された地域を何といいますか。
()

(2) 次の①、②の国々は、何という国に支配されていましたか。それぞれヨーロッパの国名を答えなさい。

- ① アルジェリア ()
- ② ナイジェリア ()

(3) ヨーロッパによる支配をまぬかれて独立を保った地図中の A の国名を答えなさい。
()

(4) アフリカの国々は、独立後もヨーロッパの国々と結びつきがある。それはどのようなことからわかりますか。言語の面から説明しなさい。
()

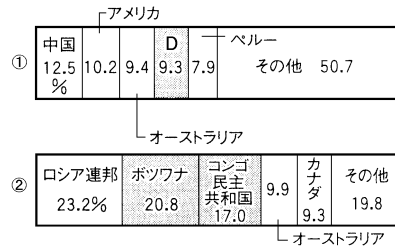
(5) 地図中の A～C の国でさかんに生産されている農作物を次からそれぞれ選び、記号で答えなさい。
A() B() C()

- ア 小麦
- イ 米
- ウ 茶
- エ コーヒー
- オ カカオ

演習問題

アフリカ州 ②

(6) 下のグラフは、アフリカで産出の多い鉱産資源の産出量割合を示している、①・②にあてはまる鉱産資源を、次からそれぞれ選び、記号で答えなさい。 ①() ②()




- ア 石炭
- イ ダイヤモンド
- ウ 石油
- エ 金
- オ 鉄鉱石

(7) 地図中の D の国などでは、世界的に埋蔵量が少なく、携帯電話などに利用される価格の高い金属も産出されている。このような金属を何といいますか。
()

(8) アフリカの国々が、ともにかかえる問題や解決策を共有するため、2002 年に結成した組織を何といいますか。
()

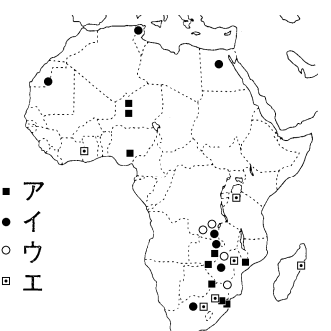
【3】アフリカの 3 か国の輸出品を示した次のグラフを見て、問いに答えなさい。



(1) 輸出額の上位 2 品目を農産物あるいは鉱産資源がしめ、しかも輸出額にしめる 2 品目の割合が最も高い国を、グラフ中から選びなさい。
()

(2) 特定の農産物や鉱産資源の輸出にたよると、毎年安定した収入を得ることがむずかしい。これはなぜか、簡単に説明しなさい。

()



(3) グラフ中の国名と主要輸出品をもとに考えて、金の分布を示したものを右の地図中の A～E から選び、記号で答えなさい。
()

(4) グラフ中の 3 か国と日本の国民生活について比べた下の表について、アフリカで乳児死亡率が高いことには、どのような背景があると考えられますか。次から 2 つ選び、記号で答えなさい。
()

	乳児死亡率 (千人当たり)	出生時の平均余命(歳)	1 人当たり国民総所得(ドル)
タンザニア	67	53	1230
ガーナ	51	62	1430
エジプト	20	69	5460
日本	3	83	35220

- ア 天候不順ですぐに食料が不足する。
- イ 温室効果ガスが増加している。
- ウ 奴隷貿易が行われている。
- エ 栄養が足りないため、病気に対する抵抗力が弱い。

得点	演習問題〔解答〕	実施日	月 日	氏名
	アフリカ州 ②			

【1】右の地図を見て、次の問いに答えなさい。

(1) 右の地図中のサヘルで進行している。耕作できない土地が広がる現象を何といいますか。
(砂漠化)

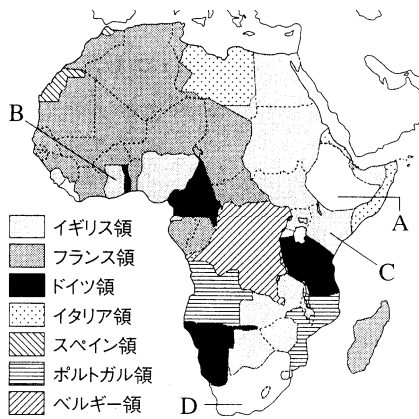
(2) サヘルと同じような気候の特色を持つ地域を、地図中のア～エから選び、記号で答えなさい。
(エ)

(3) 地図中のサヘルより北側の地域について、次の文中の①～④にあてはまる語句を答えなさい。
①(サハラ) ②(ナイル)
③(石油〔原油〕) ④(イスラム)

世界最大の①さばくが広がり、その東側には②川が流れている。エネルギー資源の天然ガスや③が多く産出され、④教徒が多く見られる。

(4) 地図中の A の湾、B の盆地の名をそれぞれ答えなさい。
A(ギニア湾) B(ゴンゴ盆地)

【2】下の地図を見て、次の問いに答えなさい。



(1) 20 世紀初めのアフリカは、地図のように外国に分割されていた。このように、外国に支配された地域を何といいますか。
(植民地)

(2) 次の①、②の国々は、何という国に支配されていましたか。それぞれヨーロッパの国名を答えなさい。

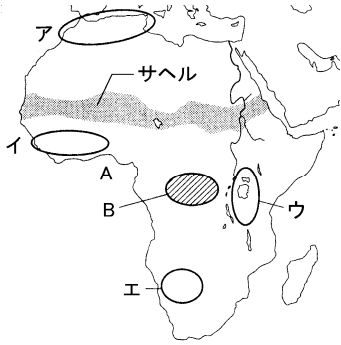
- ① アルジェリア (フランス)
- ② ナイジェリア (イギリス)

(3) ヨーロッパによる支配をまぬかれて独立を保った地図中の A の国名を答えなさい。
(エチオピア)

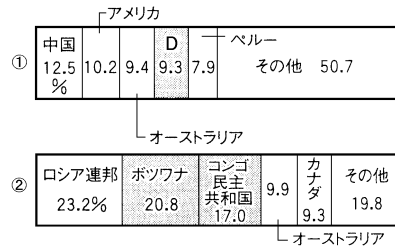
(4) アフリカの国々は、独立後もヨーロッパの国々と結びつきがある。それはどのようなことからわかりますか。言語の面から説明しなさい。
(旧本国の言語を公用語として利用している。)

(5) 地図中の A～C の国でさかんに生産されている農作物を次からそれぞれ選び、記号で答えなさい。
A(エ) B(オ) C(ウ)

- ア 小麦
- イ 米
- ウ 茶
- エ コーヒー
- オ カカオ



(6) 下のグラフは、アフリカで産出の多い鉱産資源の産出量割合を示している。①・②にあてはまる鉱産資源を、次からそれぞれ選び、記号で答えなさい。 ①(エ) ②(イ)




- ア 石炭
- イ ダイヤモンド
- ウ 石油
- エ 金
- オ 鉄鉱石

(7) 地図中の D の国などでは、世界的に埋蔵量が少なく、携帯電話などに利用される価格の高い金属も産出されている。このような金属を何といいますか。
(レアメタル)

(8) アフリカの国々が、ともにかかえる問題や解決策を共有するため、2002 年に結成した組織を何といいますか。
(アフリカ連合〔AU〕)

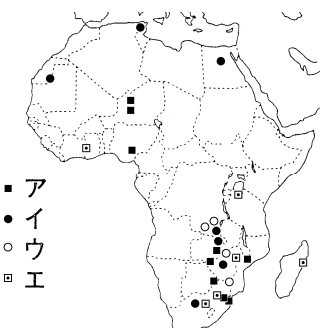
【3】アフリカの 3 か国の輸出品を示した次のグラフを見て、問いに答えなさい。



(1) 輸出額の上位 2 品目を農産物あるいは鉱産資源がしめ、しかも輸出額にしめる 2 品目の割合が最も高い国を、グラフ中から選びなさい。
(ガーナ)

(2) 特定の農産物や鉱産資源の輸出にたよると、毎年安定した収入を得ることがむずかしい。これはなぜか、簡単に説明しなさい。

天候や景気により価格が変動しやすいから



(3) グラフ中の国名と主要輸出品をもとに考えて、金の分布を示したものを右の地図中のア～エから選び、記号で答えなさい。
(エ)

(4) グラフ中の 3 か国と日本の国民生活について比べた下の表について、アフリカで乳児死亡率が高いことには、どのような背景があると考えられますか。次から 2 つ選び、記号で答えなさい。
(ア・エ)

	乳児死亡率 (千人当たり)	出生時の平均余命(歳)	1人当たり国民総所得(ドル)
タンザニア	67	53	1230
ガーナ	51	62	1430
エジプト	20	69	5460
日本	3	83	35220

- ア 天候不順ですぐに食料が不足する。
- イ 温室効果ガスが増加している。
- ウ 奴隷貿易が行われている。
- エ 栄養が足りないため、病気に対する抵抗力が弱い。