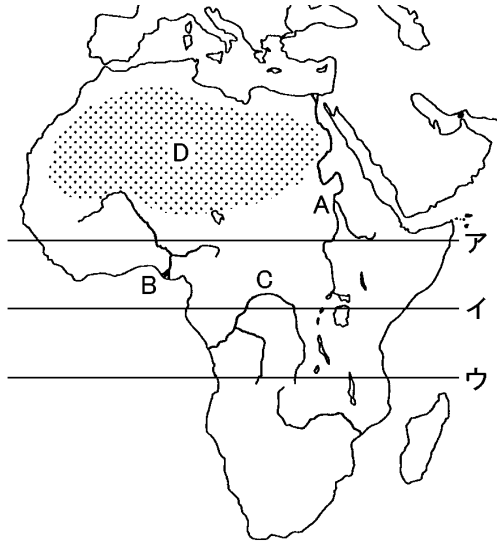


得点	演習問題			実施日	月 日	氏名
	アフリカ州 ①					

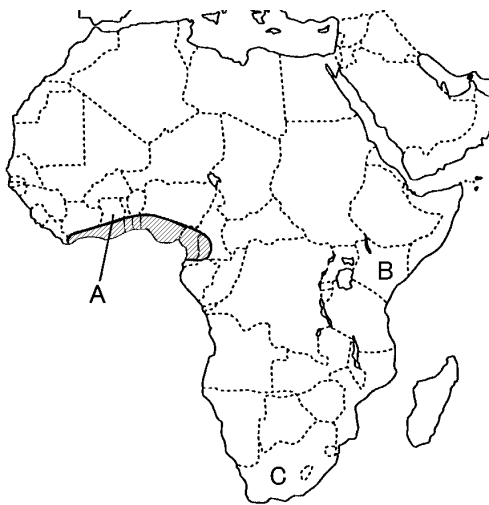
【1】下の地図を見て、次の問いに答えなさい。



- ① 地図中のア～ウから、赤道にあたるものを選び、記号で答えなさい。()
- ② エジプトで地中海に注ぐ世界で最も長い川を地図中の A～C から選び、記号と名前を答えなさい。
記号() ()
- ③ D は、世界最大の砂漠である。D の名を答えなさい。()
- ④ アフリカでは、砂漠化の進行が問題となっている。その原因として適当ではないものを次のア～エから 1 つ選び、記号で答えなさい。()

ア 家畜の数が増加した。 イ 人口が増加した。
ウ 酸性雨が降っている。 エ 干ばつがおこった。

【2】下の地図を見て、次の問いに答えよ。



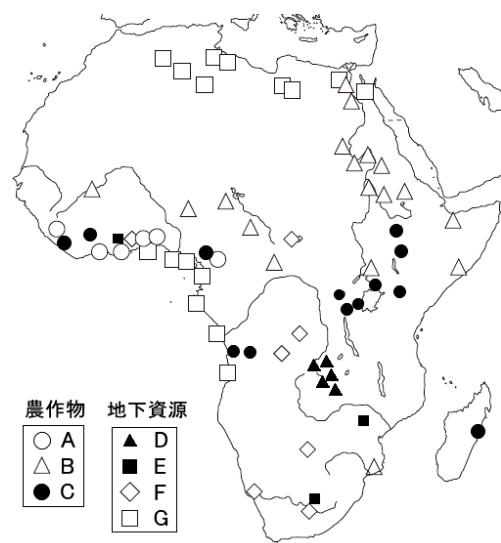
- ① A・B などを植民地としていた国を次のア～エから選び、記号で答えなさい。()
ア イギリス イ フランス ウ ドイツ エ イタリア
- ② アフリカでは第二次世界大戦後、多くの国が独立をはたした。特に 1960 年は、17 もの独立国が生まれたことから何とよべますか。()
- ③ 斜線で示した地域で世界的な生産をあげている農産物で、ココアやチョコレートの原料となるものは何ですか。()

④ B には多くの観光客が訪れるが、その目的とするものは何ですか。次のア～エから選び、記号で答えなさい。()

ア 野生動物を見るため イ 古代遺跡を見るため
ウ 金・ダイヤモンドを買うため エ スキーを楽しむため

- ⑤ C では、人種隔離政策が長い間行われ、世界各国の非難を浴びた。現在では廃止されている、この人種隔離政策を何といますか。()
- ⑥ C の国で 1994 年に初めての黒人大統領が誕生した。これはだれですか。()
- ⑦ 金・白金・ダイヤモンド・マンガン・石炭などの鉱産資源を多く産出する国を、地図中の A～C から選び、記号で答えなさい。()

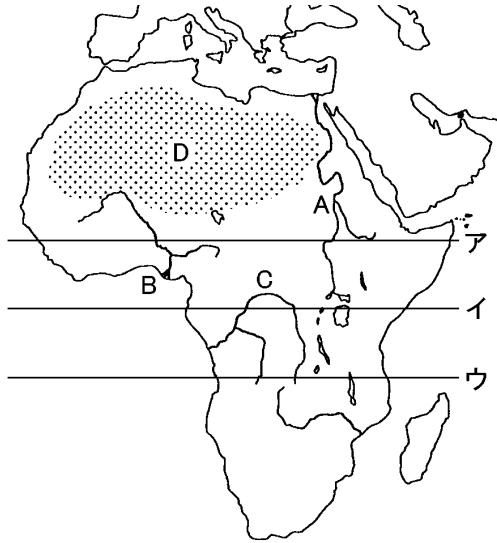
【3】下の地図を見て、次の問いに答えなさい。



- ① 地図中の A～C の農作物を下のア～オから選び、それぞれ記号で答えなさい。 A() B() C()
ア コーヒー イ 小麦 ウ カカオ
エ 綿花 オ ジャガイモ
- ② 地図中の A・C の農作物は、かつてヨーロッパの人々によって開かれた大農園で商品作物として生産された。このような農業を何といますか。()
- ③ 地図中の D～E の地下資源を下のア～カから選び、それぞれ記号で答えなさい。
D() E() F() G()
ア 銅 イ 金 ウ 石油・天然ガス
エ 銀 オ 宝石 カ ボーキサイト
- ④ 重要な輸出品で、携帯電話などの電子機器に使われるガリウムやコバルトなどの金属を何といますか。()
- ⑤ 2002 年に発足したアフリカの諸国の政治的・経済的結びつきを強めることをめざす組織を何といますか。()
- ⑥ アフリカには英語やフランス語を公用語としている国が多い。その理由を簡単に答えなさい。()

得点		演習問題〔解答〕	実施日	月 日	氏名

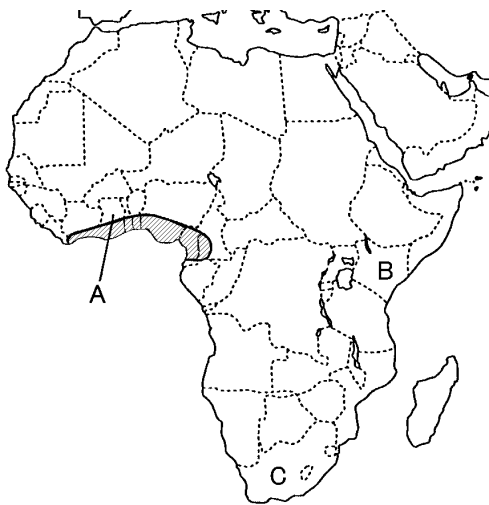
【1】下の地図を見て、次の問いに答えなさい。



- ① 地図中のア～ウから、赤道にあたるものを選び、記号で答えなさい。(イ)
- ② エジプトで地中海に注ぐ世界で最も長い川を地図中の A～C から選び、記号と名前を答えなさい。
記号(A) (ナイル川)
- ③ D は、世界最大の砂漠である。D の名を答えなさい。(サハラ砂漠)
- ④ アフリカでは、砂漠化の進行が問題となっている。その原因として適当ではないものを次のア～エから 1 つ選び、記号で答えなさい。(ウ)

ア 家畜の数が増加した。 イ 人口が増加した。
ウ 酸性雨が降っている。 エ 干ばつがおこった。

【2】下の地図を見て、次の問いに答えよ。



- ① A・B などを植民地としていた国を次のア～エから選び、記号で答えなさい。(ア)
ア イギリス イ フランス ウ ドイツ エ イタリア
- ② アフリカでは第二次世界大戦後、多くの国が独立をはたした。特に 1960 年は、17 もの独立国が生まれたことから何とよばれますか。(アフリカの年)
- ③ 斜線で示した地域で世界的な生産をあげている農産物で、ココアやチョコレートの原料となるものは何ですか。(カカオ)

④ B には多くの観光客が訪れるが、その目的とするものは何ですか。次のア～エから選び、記号で答えなさい。(ウ)

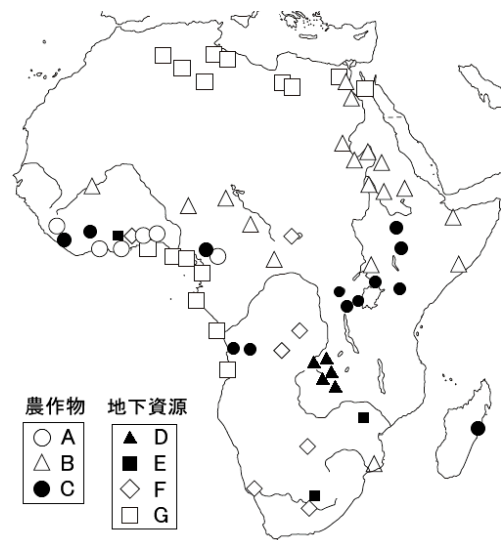
ア 金・ダイヤモンドを買うため イ 古代遺跡を見るため
ウ 野生動物を見るため エ スキーを楽しむため

⑤ C では、人種隔離政策が長い間行われ、世界各国の非難を浴びた。現在では廃止されている、この人種隔離政策を何といますか。(アパルトヘイト)

⑥ C の国で 1994 年に初めての黒人大統領が誕生した。これはだれですか。(マンデラ大統領)

⑦ 金・白金・ダイヤモンド・マンガン・石炭などの鉱産資源を多く産出する国を、地図中の A～C から選び、記号で答えなさい。(C)

【3】下の地図を見て、次の問いに答えなさい。



① 地図中の A～C の農作物を下のア～オから選び、それぞれ記号で答えなさい。 A(ウ) B(エ) C(ア)

ア コーヒー イ 小麦 ウ カカオ
エ 綿花 オ ジャガイモ

② 地図中の A・C の農作物は、かつてヨーロッパの人々によって開かれた大農園で商品作物として生産された。このような農業を何といますか。(プランテーション)

③ 地図中の D～E の地下資源を下のア～カから選び、それぞれ記号で答えなさい。 D(ア) E(オ) F(イ) G(ウ)

ア 銅 イ 宝石 ウ 石油・天然ガス
エ 銀 オ 金 カ ボーキサイト

④ 重要な輸出品で、携帯電話などの電子機器に使われるガリウムやコバルトなどの金属を何といますか。(レアメタル)

⑤ 2002 年に発足したアフリカの諸国の政治的・経済的結びつきを強めることをめざす組織を何といますか。(アフリカ連合 AU)

⑥ アフリカには英語やフランス語を公用語としている国が多い。その理由を簡単に答えなさい。(ヨーロッパの植民地であった国が多いから)