

得点	演習問題			実施日	月 日	氏名
	ヨーロッパの特色 ②					

【1】右の地図を見て、次の問いに答えなさい。

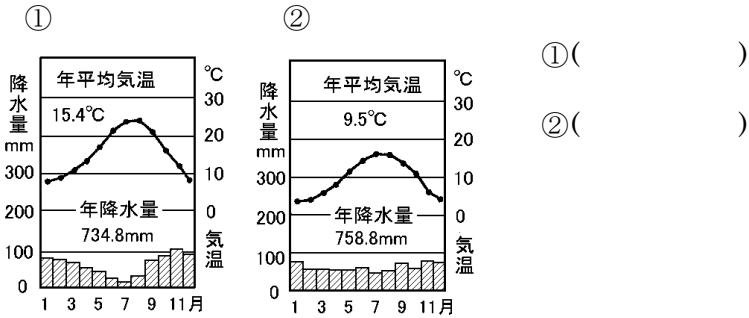
(1) 右の地図中のア・イの山脈名とウの河川名をそれぞれ答えなさい。

ア() 山脈
イ() 山脈
ウ() 川

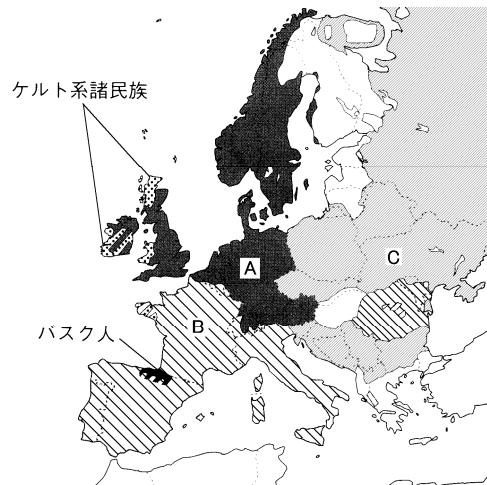
(2) 地図中のエの海岸沿いには、氷河によってつくられた海岸が見られる。これを何といいますか。
()

(3) ヨーロッパは日本より高緯度にあるが、比較的気候は温暖である。この気候に影響をあたえるオの海流とカの風の名称をそれぞれ答えなさい。
オ() カ()

(4) 下のグラフは地図中のP・Qの都市の気候を表している。それぞれの都市のものです。記号で答えなさい。



【2】右の地図は、ヨーロッパの民族分布を表したものである。これについて、次の問いに答えなさい。



(1) 地図中のA～Cの民族をそれぞれ答えなさい。
A() 民族 B() 民族 C() 民族

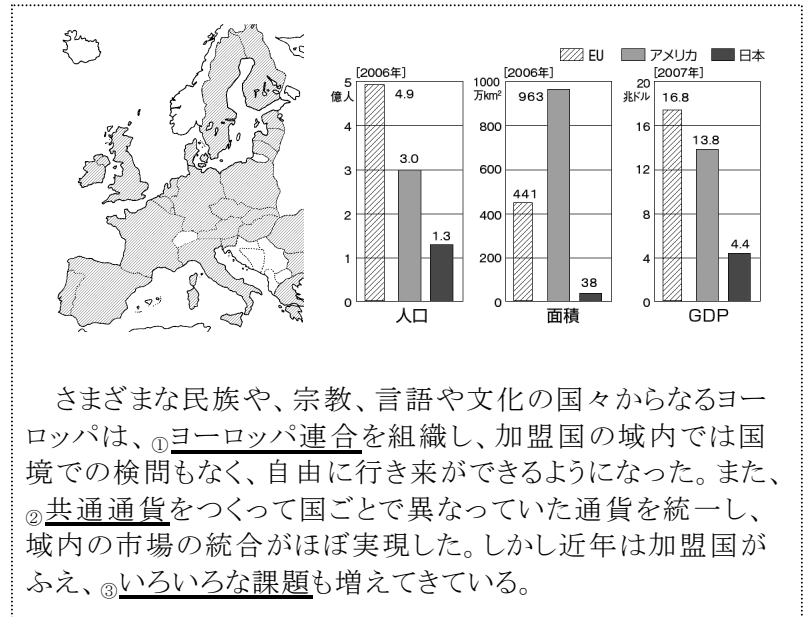
(2) ヨーロッパではキリスト教を信仰する人々が多いがさらにくわしくみると、キリスト教は次の3つに分けられ、その分布は民族の分布と似通っている。①～③のキリスト教はA～Cのどの地域に多いか。それぞれ記号で答えなさい。

① カトリック() ② プロテスタント() ③ 正教会()

(3) また、近年ヨーロッパではイスラム教を信仰する人々も増加している。その理由を簡単に説明しなさい。

[]

【3】次の地図はヨーロッパ連合の加盟国である。これについて、あとの問いに答えなさい。



(1) 下線部①を組織するようになった理由を右上のグラフを参考にして説明しなさい。

[]

(2) 下線部②の通貨名を、カタカナで答えなさい。
()

(3) 下線部③の課題を、次のア～エから1つ選びなさい。
()

- ア 民族が異なる国の集まりなので、民族間の対立がはげしくなっている。
- イ 加盟国の間で、10倍以上の経済格差がある。
- ウ 航空機の共同生産などで輸出がのび、アメリカとの間で貿易摩擦がおきている。
- エ ヨーロッパ共通の宗教であるキリスト教の宗派による、主導権争いがおきている。

【4】次の文を読んであとの問いに答えなさい。

ロシア連邦はヨーロッパと①にまたがる広大な国で、国土の面積は日本の約②倍で世界一広い国である。広大な国土は、ステップの草原から北極海沿岸の③まで多様な自然が見られる。また、南西部には肥沃な土地が広がり④などの穀物栽培がさかんで、a 鉱産資源や b 木材資源も豊かである。

(1) 文中の①～④にあてはまる語句を、次のア～クから1つずつ選びなさい。()

- ア オセアニア イ アジア ウ 45 エ 10
- オ ツンドラ キ 米 カ 小麦 ク キャッサバ

(2) ヨーロッパと①をわける山脈の名を答えなさい。
()

(3) 下線部 a の鉱産資源のうち・石油や天然ガスはEUの国々に送られている。何を使って送られているか。
()

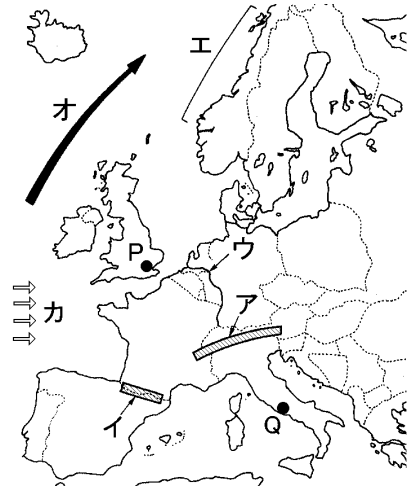
(4) 下線部 b について、ロシア連邦の中央部に広がる針葉樹林帯を何といいますか。
()

得点	演習問題〔解答〕	実施日	月 日	氏名

【1】右の地図を見て、次の問いに答えなさい。

(1) 右の地図中のア・イの山脈名とウの河川名をそれぞれ答えなさい。

ア(アルプス 山脈)
イ(ピレネー 山脈)
ウ(ライン 川)



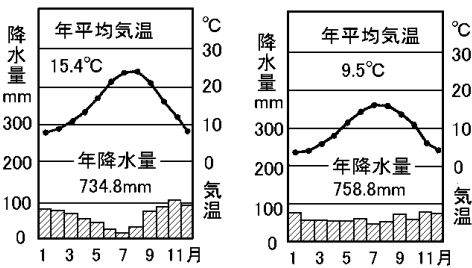
(2) 地図中のエの海岸沿いには、氷河によってつくられた海岸が見られる。これを何といいますか。(フィヨルド)

(3) ヨーロッパは日本より高緯度にあるが、比較的気候は温暖である。この気候に影響をあたえるオの海流とカの風の名称をそれぞれ答えなさい。

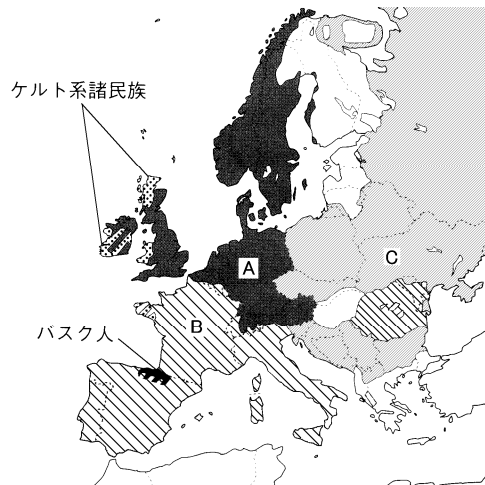
オ(北大西洋海流) カ(偏西風)

(4) 下のグラフは地図中のP・Qの都市の気候を表している。それぞれの都市のものです。記号で答えなさい。

① (Q) ② (P)



【2】右の地図は、ヨーロッパの民族分布を表したものである。これについて、次の問いに答えなさい。



(1) 地図中のA～Cの民族をそれぞれ答えなさい。
A(ゲルマン 民族) B(ラテン 民族) C(スラブ 民族)

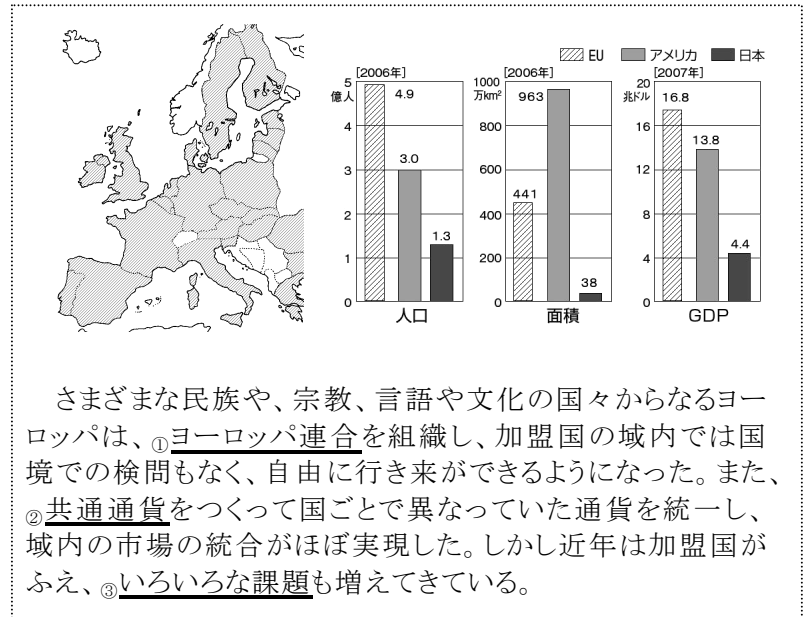
(2) ヨーロッパではキリスト教を信仰する人々が多いがさらによくみると、キリスト教は次の3つに分けられ、その分布は民族の分布と似通っている。①～③のキリスト教はA～Cのどの地域に多いか。それぞれ記号で答えなさい。

① カトリック(B) ② プロテスタント(A) ③ 正教会(C)

(3) また、近年ヨーロッパではイスラム教を信仰する人々も増加している。その理由を簡単に説明しなさい。

〔北アフリカやトルコなどからの外国人労働者が増加したから〕

【3】次の地図はヨーロッパ連合の加盟国である。これについて、あとの問いに答えなさい。



(1) 下線部①を組織するようになった理由を右上のグラフを参考にして説明しなさい。

〔ヨーロッパは小国が多く、協力し合わなければアメリカなど大国との競争に勝てないと考えたから。〕

(2) 下線部②の通貨名を、カタカナで答えなさい。(ユーロ)

(3) 下線部③の課題を、次のア～エから1つ選びなさい。(イ)

- ア 民族が異なる国の集まりなので、民族間の対立がはげしくなっている。
- イ 加盟国の間で、10倍以上の経済格差がある。
- ウ 航空機の共同生産などで輸出がのび、アメリカとの間で貿易摩擦がおきている。
- エ ヨーロッパ共通の宗教であるキリスト教の宗派による、主導権争いがおきている。

【4】次の文を読んであとの問いに答えなさい。

ロシア連邦はヨーロッパと ① にまたがる広大な国で、国土の面積は日本の約 ② 倍で世界一広い国である。広大な国土は、ステップの草原から北極海沿岸の ③ まで多様な自然が見られる。また、南西部には肥沃な土地が広がり ④ などの穀物栽培がさかんで、a 鉱産資源や b 木材資源も豊かである。

(1) 文中の①～④にあてはまる語句を、次のア～クから1つずつ選びなさい。(① イ ② ウ ③ オ ④ カ)

ア オセアニア イ アジア ウ 45 エ 10
オ ツンドラ キ 米 カ 小麦 ク キャッサバ

(2) ヨーロッパと ① をわける山脈の名を答えなさい。(ウラル山脈)

(3) 下線部 a の鉱産資源のうち・石油や天然ガスはEUの国々に送られている。何を使って送られているか。(パイプライン)

(4) 下線部 b について、ロシア連邦の中央部に広がる針葉樹林帯を何といいますか。(タイガ)