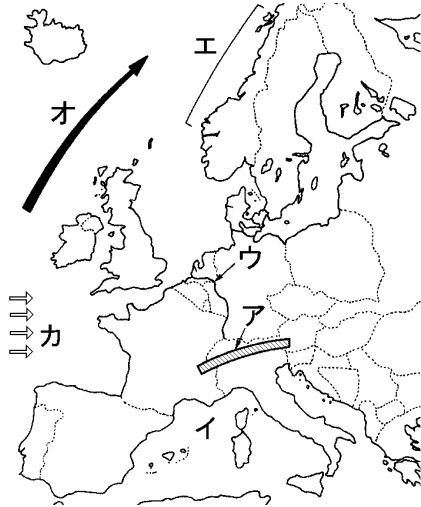


|    |             |  |  |     |     |    |
|----|-------------|--|--|-----|-----|----|
| 得点 | <b>演習問題</b> |  |  | 実施日 | 月 日 | 氏名 |
|    | ヨーロッパ州の特色 ① |  |  |     |     |    |

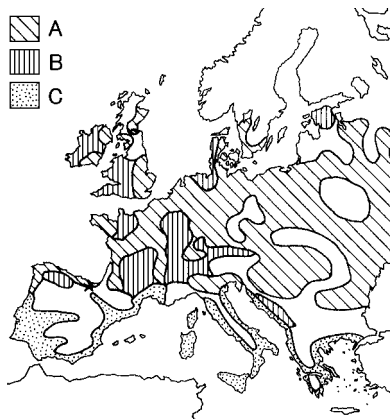
【1】下の地図を見て、次の問いに答えなさい。



- ヨーロッパの南部を東西に連なる山脈アと、ヨーロッパの南に広がる海イの名前をそれぞれ答えなさい。  
ア( ) イ( )
- ヨーロッパの中央の平野を流れ、水量が多いため、国境をこえて水運として利用されている河川ウの名前を答えなさい。  
( )
- 地図中のエの海岸沿いには、氷河によってつくられた海岸が見られる。これを何といいますか。  
( )
- 次の文の□にあてはまる語句をそれぞれ答えなさい。  
オ( ) カ( )

ヨーロッパは日本より高緯度にあるが、比較的気候は温暖である。これは、大西洋を流れる暖流の□オ海流と西から吹く□カが寒さをやわらげているためである。

【2】下の地図を見て、次の問いに答えなさい。



- 次の①～④の農業の名前に関係の深いものを、あとのア～エから1つずつ選びなさい。  
① 混合農業 ( ) ② 地中海式農業 ( )  
③ 酪農 ( ) ④ 園芸や果樹栽培 ( )  
ア 乳牛の飼育、バター・チーズなどの出荷。  
イ オリーブ・ぶどう・オレンジなどの栽培。  
ウ 小麦などの穀物栽培と、牛・豚などの家畜の飼育を組み合わせた農業。  
エ 出荷を目的とした草花や果樹の栽培。
- 地図中の A～C の地域で行われている農業を、(1)の①～④から1つずつ選びなさい。( A B C )

【3】次の問いに答えなさい。

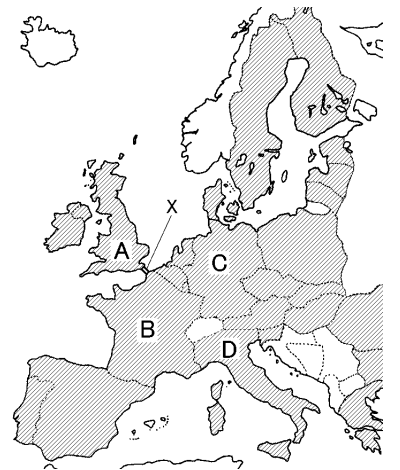
- 次の文の□にあてはまる語句を書きなさい。  
①( ) ②( )  
③( ) ④( )

ヨーロッパは、自然やことば、文化などのちがいにより、北部と南部、西部と東部にまとめることができる。たとえば、ドイツ語などの□①系の言語を使う人々はヨーロッパの北部、イタリア語などの□②系の言語を使う人々は南部、ポーランド語などの□③系の言語を使う人々は東部にかたまっている。しかし、ヨーロッパは□④教がおもな宗教であるという点で共通性をもっている。

- 1960年代以降、ヨーロッパではイスラム教を信仰する人々がふえている。そのわけを次から1つ選びなさい。( )  
ア EU加盟国にイスラム教を信仰する国がふえたから。  
イ アフリカやトルコから労働者として移住してくる人がふえたから。  
ウ 交通が便利になり、アフリカや西アジアからの観光客がふえたから。  
エ ヨーロッパの国が、西アジアの国から石油を多く輸入するようになったため。

【4】次の文を読んで、あとの問いに答えなさい。

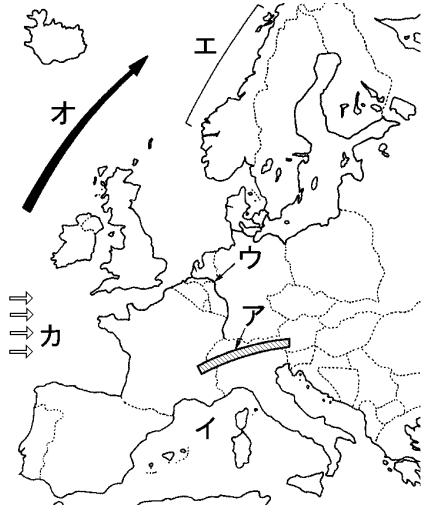
さまざまな民族や、①宗教、言語や文化の国々からなるヨーロッパは、現在では□②を組織し、③域内では国境での検問もなく、自由に行き来ができるようになった。また、④共通通貨をつくって国ごとに異なっていた通貨を統一し、域内の市場の統合がほぼ実現した。しかし近年は加盟国がふえ、⑤いろいろな課題も増えてきている。



- 下線部①について、右上の地図中の A～D の国の名を答えなさい。  
A( ) B( )  
C( ) D( )
- ②にあてはまる組織名を、日本名で答えなさい。また、その説明として誤っているものを、次のア～エから1つ選びなさい。  
組織名( ) 誤り( )  
ア 域内での輸出入は自由である。  
イ 政治的・経済的な統合をめざしている。  
ウ 国境を越えて通学・通勤することができる。  
エ 加盟国の国民一人あたりの所得はアメリカを上回っている。
- 下線部③について、地図中の X のトンネルを通して、ロンドンとパリを結んでいる鉄道を何といいますか。( )
- 下線部④の通貨名を、カタカナで答えなさい。( )
- 下線部⑤の課題の1つを、簡単に答えなさい。  
( )

|    |                 |  |  |     |     |    |
|----|-----------------|--|--|-----|-----|----|
| 得点 | <b>演習問題〔解答〕</b> |  |  | 実施日 | 月 日 | 氏名 |
|    | ヨーロッパ州の特色 ①     |  |  |     |     |    |

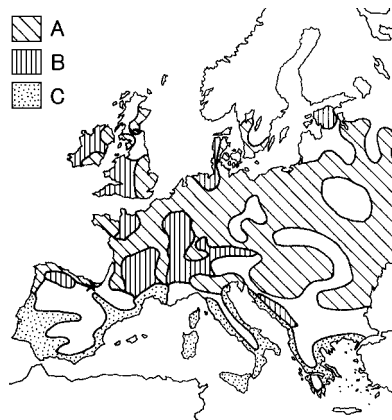
【1】下の地図を見て、次の問いに答えなさい。



- (1) ヨーロッパの南部を東西に連なる山脈アと、ヨーロッパの南に広がる海イの名前をそれぞれ答えなさい。  
ア( アルプス山脈 ) イ( 地中海 )
- (2) ヨーロッパの中央の平野を流れ、水量が多いため、国境をこえて水運として利用されている河川ウの名前を答えなさい。  
( ライン川 )
- (3) 地図中のエの海岸沿いには、氷河によってつくられた海岸が見られる。これを何といいますか。  
( フィヨルド )
- (4) 次の文の□にあてはまる語句をそれぞれ答えなさい。  
オ( 北大西洋 ) カ( 偏西風 )

ヨーロッパは日本より高緯度にあるが、比較的気候は温暖である。これは、大西洋を流れる暖流の□オ海流と西から吹く□カが寒さをやわらげているためである。

【2】下の地図を見て、次の問いに答えなさい。



- (1) 次の①～④の農業の名前に関係の深いものを、あとのア～エから1つずつ選びなさい。
- ① 混合農業 ( ウ ) ② 地中海式農業 ( イ )  
③ 酪農 ( ア ) ④ 園芸や果樹栽培 ( エ )
- ア 乳牛の飼育、バター・チーズなどの出荷。  
イ オリーブ・ぶどう・オレンジなどの栽培。  
ウ 小麦などの穀物栽培と、牛・豚などの家畜の飼育を組み合わせた農業。  
エ 出荷を目的とした草花や果樹の栽培。
- (2) 地図中の A～C の地域で行われている農業を、(1)の①～④から1つずつ選びなさい。 ( A ① B ③ C ② )

【3】次の問いに答えなさい。

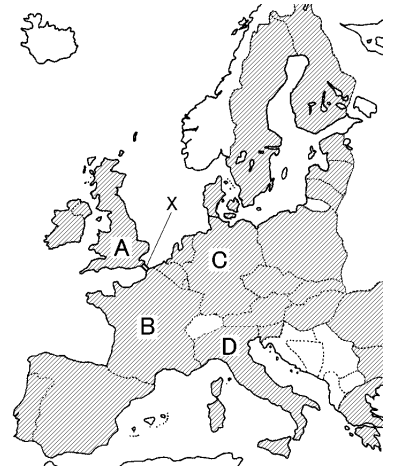
- (1) 次の文の□にあてはまる語句を書きなさい。  
①( ゲルマン ) ②( ラテン )  
③( スラブ ) ④( キリスト )

ヨーロッパは、自然やことば、文化などのちがいにより、北部と南部、西部と東部にまとめることができる。たとえば、ドイツ語などの□①系の言語を使う人々はヨーロッパの北部、イタリア語などの□②系の言語を使う人々は南部、ポーランド語などの□③系の言語を使う人々は東部にたまっていて、しかし、ヨーロッパは□④教がおもな宗教であるという点で共通性をもっている。

- (2) 1960年代以降、ヨーロッパではイスラム教を信仰する人々がふえている。そのわけを次から1つ選びなさい。( イ )
- ア EU加盟国にイスラム教を信仰する国がふえたから。  
イ アフリカやトルコから労働者として移住してくる人がふえたから。  
ウ 交通が便利になり、アフリカや西アジアからの観光客がふえたから。  
エ ヨーロッパの国が、西アジアの国から石油を多く輸入するようになったため。

【4】次の文を読んで、あとの問いに答えなさい。

さまざまな民族や、①宗教、言語や文化の国々からなるヨーロッパは、現在では□②を組織し、③域内では国境での検問もなく、自由に行き来ができるようになった。また、④共通通貨をつくらせて国ごとに異なっていた通貨を統一し、域内の市場の統合がほぼ実現した。しかし近年は加盟国がふえ、⑤いろいろな課題も増えてきている。



- (1) 下線部①について、右上の地図中の A～D の国の名を答えなさい。  
A( イギリス ) B( フランス )  
C( ドイツ ) D( イタリア )
- (2) □②にあてはまる組織名を、日本名で答えなさい。また、その説明として誤っているものを、次のア～エから1つ選びなさい。  
組織名( ヨーロッパ連合 ) 誤り( イ )
- ア 域内での輸出入は自由である。  
イ 政治的・経済的な統合をめざしている。  
ウ 国境を越えて通学・通勤することができる。  
エ 加盟国の国民一人あたりの所得はアメリカを上回っている。
- (3) 下線部③について、地図中の X のトンネルを通して、ロンドンとパリを結んでいる鉄道を何といいますか。( ユーロスター )
- (4) 下線部④の通貨名を、カタカナで答えなさい。  
( ユーロ )
- (5) 下線部⑤の課題の1つを、簡単に答えなさい。

加盟国間の経済格差に大きな開きがあること