

絶対暗記するプリント

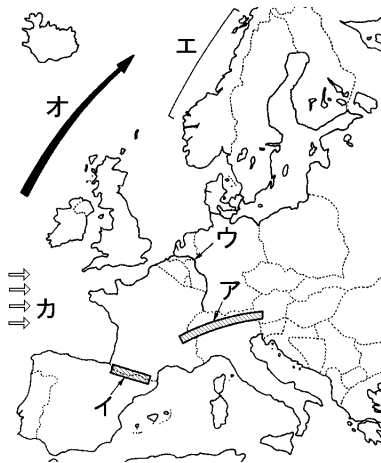
EU諸国 ② (発展)

実施 /

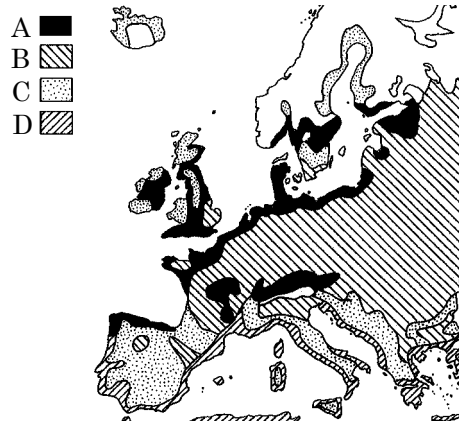
氏名

- ① [地図1]のア・イの山脈名をそれぞれ答えなさい。 ア(アルプス山脈) イ(ピレネー山脈)
- ② [地図1]のウの河川名を答えなさい。 (ライン川)
- ③ [地図1]のエに見られる氷河によってけずられた湾を何とといいますか。 (フィヨルド)
- ④ 夏の夜太陽が十分に沈まず、うす明るい状態が続く現象を何とといいますか。 (白夜)
- ⑤ 西ヨーロッパは高緯度のわりに温かな気候である。この気候を何とといいますか。 (西岸海洋性気候)
- ⑥ ⑤の理由を簡単に説明しなさい。 (暖流である北大西洋海流と偏西風の影響を受けているから)
- ⑦ ヨーロッパ南部の、夏は乾燥し、冬はやや降水量が多くなる気候を何とといいますか。 (地中海性気候)
- ⑧ 食料・飼料作物の栽培と家畜の飼育を組み合わせさせた農業を何とといいますか。 (混合農業)
- ⑨ ヨーロッパ北部でさかんな、乳牛を飼育して牛乳を生産する農業を何とといいますか。 (酪農)
- ⑩ 小麦や乳製品の輸出を行っているEU最大の農業国はどこですか。 (フランス)

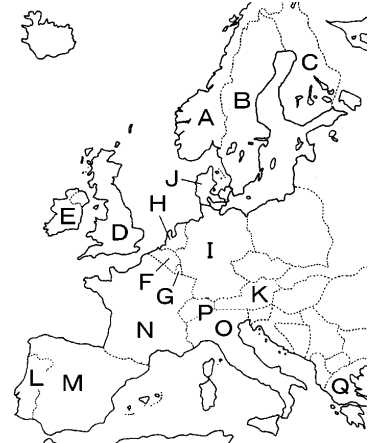
[地図1]ヨーロッパの自然



[地図2]ヨーロッパの農業



[地図3]ヨーロッパの国々



- ⑪ 上の[地図2]のA~Dの地域で行われている農業をそれぞれ何とといいますか。
 A(酪農) B(混合農業) C(牧畜) D(地中海式農業)
 - ⑫ ヨーロッパの多くの国々が加盟し経済の統合を達成した組織を何とといいますか。 (ヨーロッパ連合EU)
 - ⑬ ⑫に加盟している国は2013年7月1日現在では何ヶ国になりましたか。 (28か国)
 - ⑭ ⑫の本部が置かれている都市はどこですか。 (ブリュッセル)
 - ⑮ イギリスとフランスを結ぶユーロトンネルを通る高速鉄道を何とといいますか。 (ユーロスター)
 - ⑯ ⑮のトンネルが結ばれている海峡を何とといいますか。 (ドーバー海峡)
 - ⑰ 18世紀におこった手工業から大規模な工場制機械工業への変化を何とといいますか。 (産業革命)
 - ⑱ ドイツにあるEU最大の工業地帯を何とといいますか。 (ルール工業地帯)
 - ⑲ 石油パイプラインの中心である石油基地が置かれているヨーロッパ共通の港は何ですか。 (ユーロポート)
- 以下の問題は[地図3]の記号と国名を答えなさい。
- ⑲ ⑫の本部が置かれている国は[地図3]のどれですか。記号と国名を答えなさい。 (F・ベルギー)
 - ⑳ 小麦などの輸出量は世界有数で、ヨーロッパの穀倉とよばれている国はどこですか。 (N・フランス)
 - ㉑ 近年、北海油田が開発され石油の輸出国となり再び活気を取り戻した国はどこですか。 (D・イギリス)
 - ㉒ 国土の4分の1をポルダーとよばれる干拓地が占める国はどこですか。 (H・オランダ)
 - ㉓ ヨーロッパ最大の重化学工業地帯がある国はどこですか。 (I・ドイツ)
 - ㉔ キルナ・エリバレなどで良質の鉄鉱石の産出する国はどこですか。 (B・スウェーデン)
 - ㉕ 国土の北部と南部の経済格差が問題になっている国はどこですか。 (O・イタリア)

