

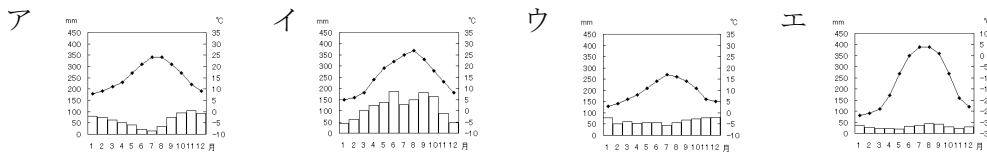
# 絶対暗記するプリント

EU諸国 ① (基礎)

実施 /

氏名

- ① [地図1]のアの山脈名をそれぞれ答えなさい。 ( アルプス山脈 )
- ② [地図1]のイの河川名を答えなさい。 ( ライン川 )
- ③ 西ヨーロッパの気候に影響を与える海流ウを何といいますか。 ( 北大西洋海流 )
- ④ 西ヨーロッパの気候に影響を与える風エを何といいますか。 ( 偏西風 )
- ⑤ ③・④の影響を受けているため、高緯度のわりに温かな気候を何といいますか。 ( 西岸海洋性気候 )
- ⑥ ヨーロッパ南部の、夏は乾燥し、冬はやや降水量が多くなる気候を何といいますか。 ( 地中海性気候 )
- ⑦ 上の⑤・⑥の気候を表すグラフを下のア～エからそれぞれ選びなさい。 ( ⑤ウ ⑥ア )

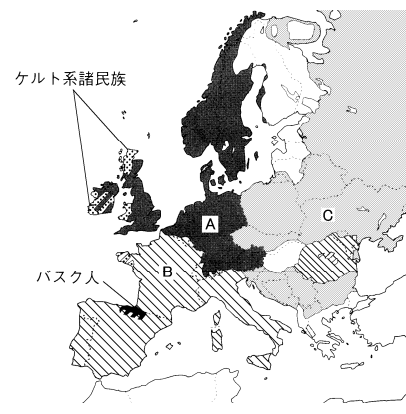
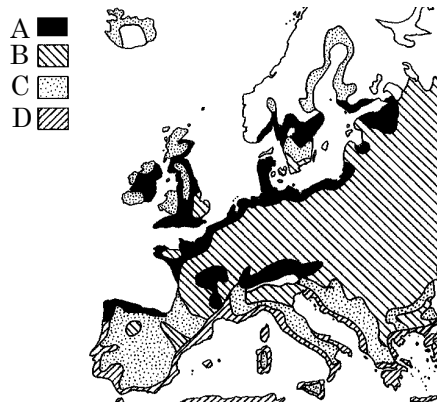
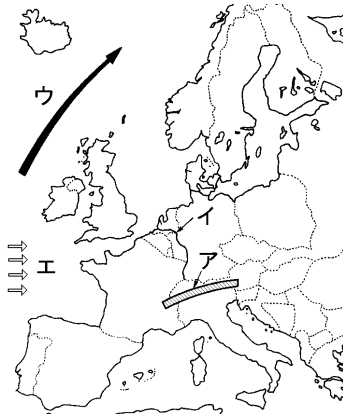


- ⑧ 食料・飼料作物の栽培と家畜の飼育を組み合わせた農業を何といいますか。 ( 混合農業 )
- ⑨ ヨーロッパ北部でさかんな、乳牛を飼育して牛乳を生産する農業を何といいますか。 ( 酪農 )
- ⑩ 小麦や乳製品の輸出を行っているEU最大の農業国はどこですか。 ( フランス )

[地図1]ヨーロッパの自然

[地図2]ヨーロッパの農業

[地図3]ヨーロッパの民族分布



- ⑪ 上の[地図2]のA～Dの地域で行われている農業をそれぞれ何といいますか。  
 A( 酪農 ) B( 混合農業 ) C( 牧畜 ) D( 地中海式農業 )
- ⑫ ヨーロッパの多くの国々が加盟し経済の統合を達成した組織を何といいますか。 ( ヨーロッパ連合EU )
- ⑬ ⑫に加盟している国は2013年7月現在では何ヶ国になりましたか。 ( 28か国 )
- ⑭ ⑫の本部が置かれている都市はどこですか。 ( ブリュッセル )
- ⑮ 1994年に開通した、イギリスとフランスを結ぶトンネルを何といいますか。 ( ユーロトンネル )
- ⑯ ⑮のトンネルが結ばれている海峡を何といいますか。 ( ドーバー海峡 )
- ⑰ 上の[地図3]のA～Cはそれぞれ何系の民族を表していますか。  
 A( ゲルマン系民族 ) B( ラテン系民族 ) C( スラブ系民族 )
- ⑱ ロシア連邦で、ヨーロッパとアジアの境になっている山脈は何ですか。 ( ウラル山脈 )
- ⑲ ロシアからヨーロッパへ石油や天然ガスを輸送するとき、何を用いて輸送しますか。 ( パイプライン )
- ⑳ ロシアで石油や石炭などの地下資源を中心に発達した工業地帯を何といいますか。 ( コンビナート )
- ㉑ ロシアの東部にひろがる針葉樹林帯を何といいますか。 ( タイガ )

# 確認テスト

EU諸国 ① (基礎)

実施 /

氏名

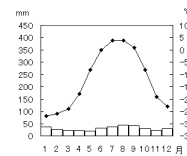
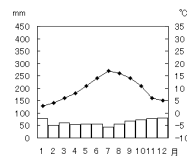
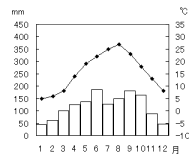
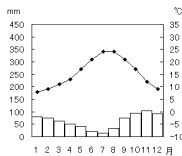
- ① [地図1]のアの山脈名をそれぞれ答えなさい。 ( )
- ② [地図1]のイの河川名を答えなさい。 ( )
- ③ 西ヨーロッパの気候に影響を与える海流ウを何といいますか。 ( )
- ④ 西ヨーロッパの気候に影響を与える風エを何といいますか。 ( )
- ⑤ ③・④の影響を受けているため、高緯度のわりに温和な気候を何といいますか。 ( )
- ⑥ ヨーロッパ南部の、夏は乾燥し、冬はやや降水量が多くなる気候を何といいますか。 ( )
- ⑦ 上の⑤・⑥の気候を表すグラフを下のア～エからそれぞれ選びなさい。 (⑤ ⑥)

ア

イ

ウ

エ

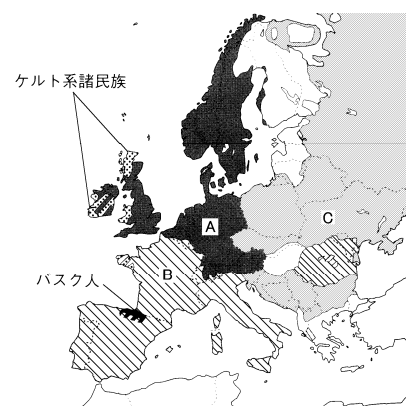
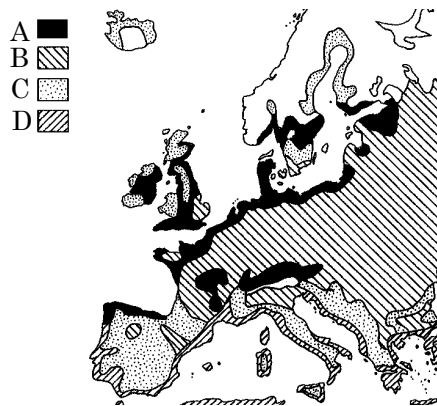
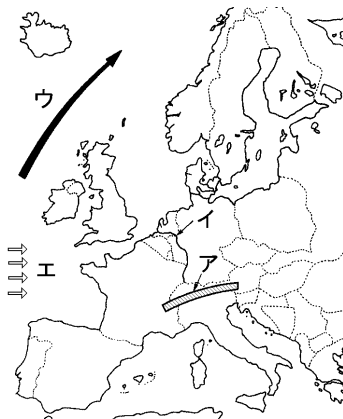


- ⑧ 食料・飼料作物の栽培と家畜の飼育を組み合わせた農業を何といいますか。 ( )
- ⑨ ヨーロッパ北部でさかんな、乳牛を飼育して牛乳を生産する農業を何といいますか。 ( )
- ⑩ 小麦や乳製品の輸出を行っているEU最大の農業国はどこですか。 ( )

[地図1]ヨーロッパの自然

[地図2]ヨーロッパの農業

[地図3]ヨーロッパの民族分布



- ⑪ 上の[地図2]のA～Dの地域で行われている農業をそれぞれ何といいますか。  
A( ) B( ) C( ) D( )
- ⑫ ヨーロッパの多くの国々が加盟し経済の統合を達成した組織を何といいますか。 ( )
- ⑬ ⑫に加盟している国は2013年7月現在では何ヶ国になりましたか。 ( )
- ⑭ ⑫の本部が置かれている都市はどこですか。 ( )
- ⑮ 1994年に開通した、イギリスとフランスを結ぶトンネルを何といいますか。 ( )
- ⑯ ⑮のトンネルが結ばれている海峡を何といいますか。 ( )
- ⑰ 上の[地図3]のA～Cはそれぞれ何系の民族を表していますか。  
A( )系民族 B( )系民族 C( )系民族
- ⑱ ロシア連邦で、ヨーロッパとアジアの境になっている山脈は何ですか。 ( )
- ⑲ ロシアからヨーロッパへ石油や天然ガスを輸送するとき、何を用いて輸送しますか。 ( )
- ⑳ ロシアで石油や石炭などの地下資源を中心に発達した工業地帯を何といいますか。 ( )
- ㉑ ロシアの東部にひろがる針葉樹林帯を何といいますか。 ( )