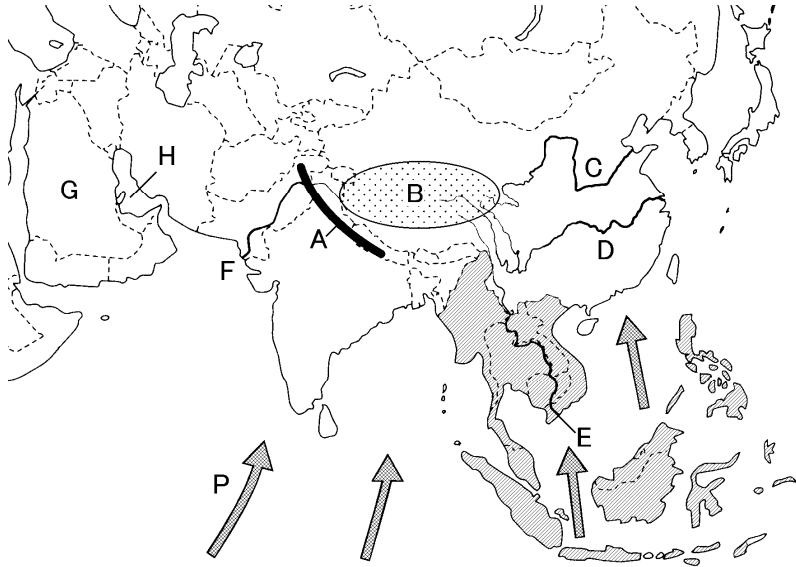


得点	演習問題			実施日	月 日	氏名
	アジア総合 ②					

【1】下の地図について次の問いに答えなさい。



- (1) A の山脈名と、B の高原の名を答えなさい。
A() 山脈 B() 高原
- (2) C と D は中国を代表する大河である。河川名をそれぞれ答えなさい。
C() D()
- (3) 人口抑制のために中国政府がとっている政策を何といいますか。()
- (4) 1980 年以降、海外の資本や技術を導入するために開放されたシェンチェンなど中国沿海部の都市に設けられた区域を何といいますか。()
- (5) E と F の河川名をそれぞれ答えなさい。
E() F()
- (6) 地図中の斜線を引いた東南アジア諸国の経済社会の発展、拡大などをめざす組織の加盟国である。この組織を何といいますか。アルファベットで答えなさい。()
- (7) 東南アジアにあるシンガポールは韓国やホンコン・台湾などとともに工業化に取り組み、急成長をとげた。このような国や地域を何といいますか。()
- (8) 東南アジアでは、植民地時代に外国資金によって開発された大農園が見られ、油やしや茶などが栽培されている。この大農園を何と呼びますか。()
- (9) 地図中の矢印 P は夏に吹く風を表している。このように季節によって風向きが大きくかわる風を何といいますか。()
- (10) G の半島を何といいますか。() 半島
- (11) H の湾岸はある地下資源が豊富に埋蔵されている。この地下資源を答えなさい。()
- (12) 中央アジアには、石油・天然ガスだけではなく、マンガン・クロム・バナジウムなども多く産出するが、これらの希少金属を何といいますか。()

【2】次の文を読んで、あとの問いに答えなさい。

中国は面積が広く、約 億人という世界一の人口をもつ国である。中国の人口の 9 割をしめるのが 族で、そのほか 55 の少数民族が住んでいる。このように多くの民族が住んでいる国を という。中国の人口の多くは d 中国東部の都市 に集中している。

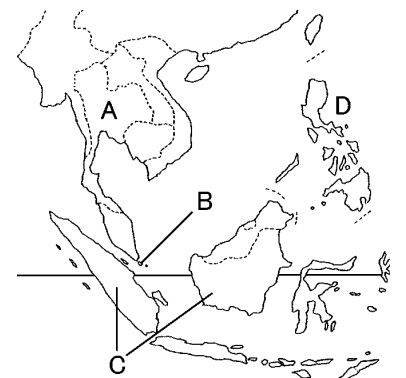
- (1) a にあてはまる数字を答えなさい。()
- (2) b、c にあてはまる語句をそれぞれ答えなさい。
b() c()
- (3) 下線部 d について次の問いに答えなさい。
 - ① 下線部 d の都市にあてはまらないものを、次のア～エから 1 つ選び、記号で答えなさい。()
ア シヤンハイ イ ウルムチ ウ コワンチョウ エ ナンキン
 - ② 中国の首都でハイテク産業や情報技術産業が発達している都市の名前を答えなさい。()
- (4) 中国では、人口増加をおさえるために、1980 年以降、どのような政策を行ったか、簡単に答えなさい。()

【3】東南アジアについて、次の問いに答えなさい。

- (1) 東南アジアでは、中国から移住した人々が多く住んで活躍している。この中国系の人々は何と呼ばれていますか。()
- (2) マレーシアやインドネシアに見られるゴムなどの大農園を何といいますか。()
- (3) 次の文中の に当てはまる宗教をそれぞれ答えなさい。
①() ②() ③()

東南アジアの宗教分布はさまざま、タイやミャンマーでは 教徒が大多数をしめ、インドネシア人やマレー人には 教徒が多く、インド人は 教徒が多い。

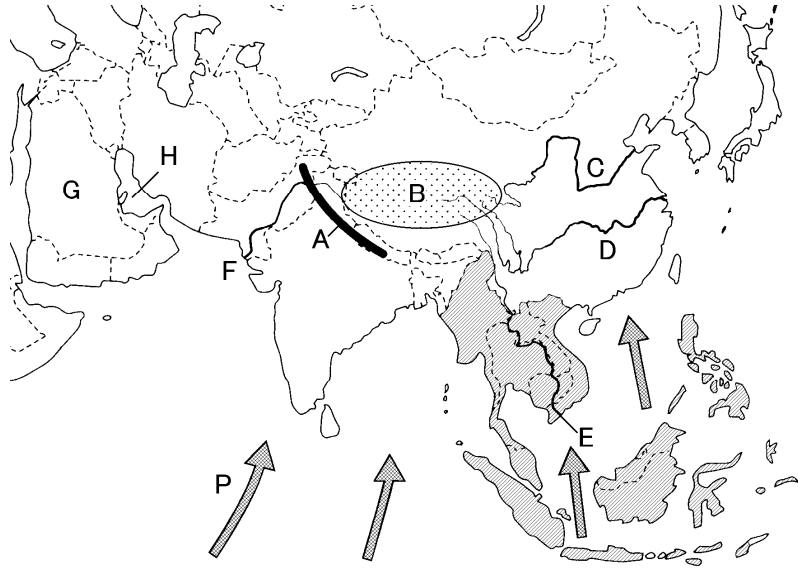
- (4) 次の①・②にあてはまる国を、地図中の A～D から選び、記号と国名も答えなさい。



- ① 石油などの地下資源も多く、米の生産もさかんである。また、マングローブが広がる海岸では日本向けのえびの養殖場がつけられている。(記号 国名)
- ② 工業の成長が著しく、韓国などとともにアジア NIES と呼ばれている。(記号 国名)

得点	演習問題〔解答〕	実施日	月 日	氏名

【1】下の地図について次の問いに答えなさい。



- Aの山脈名と、Bの高原の名を答えなさい。
A(ヒマラヤ 山脈) B(チベット 高原)
- CとDは中国を代表する大河である。河川名をそれぞれ答えなさい。
C(黄河) D(長江)
- 人口抑制のために中国政府がとっている政策を何といいますか。
(一人っ子政策)
- 1980年以降、海外の資本や技術を導入するために開放されたシェンチェンなど中国沿海部の都市に設けられた区域を何といいますか。
(経済特区)
- EとFの河川名をそれぞれ答えなさい。
E(メコン川) F(インダス川)
- 地図中の斜線を引いた東南アジア諸国の経済社会の発展、拡大などをめざす組織の加盟国である。この組織を何といいますか。アルファベットで答えなさい。
(ASEAN)
- 東南アジアにあるシンガポールは韓国やホンコン・台湾などとともに工業化に取り組み、急成長をとげた。このような国や地域を何といいますか。
(アジア NIES)
- 東南アジアでは、植民地時代に外国資金によって開発された大農園が見られ、油やしや茶などが栽培されている。この大農園を何と呼びますか。
(プランテーション)
- 地図中の矢印Pは夏に吹く風を表している。このように季節によって風向きが大きくかわる風を何といいますか。
(モンスーン)
- Gの半島を何といいますか。
(アラビア 半島)
- Hの湾岸はある地下資源が豊富に埋蔵されている。この地下資源を答えなさい。
(石油〔原油〕)
- 中央アジアには、石油・天然ガスだけではなく、マンガン・クロム・バナジウムなども多く産出するが、これらの希少金属を何といいますか。
(レアメタル)

【2】次の文を読んで、あとの問いに答えなさい。

中国は面積が広く、約 億人という世界一の人口をもつ国である。中国の人口の9割をしめるのが 族で、そのほか55の少数民族が住んでいる。このように多くの民族が住んでいる国を という。中国の人口の多くは d 中国東部の都市 に集中している。

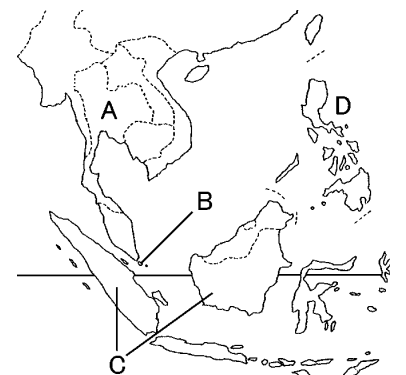
- aにあてはまる数字を答えなさい。
(13)
- b、cにあてはまる語句をそれぞれ答えなさい。
b(漢) c(多民族国家)
- 下線部dについて次の問いに答えなさい。
 - 下線部dの都市にあてはまらないものを、次のア～エから1つ選び、記号で答えなさい。
(イ)
ア シヤンハイ イ ウルムチ ウ コワンチョウ エ ナンキン
 - 中国の首都でハイテク産業や情報技術産業が発達している都市の名前を答えなさい。
(ペキン)
 - 中国では、人口増加をおさえるために、1980年以降、どのような政策を行ったか、簡単に答えなさい。
(一人っ子政策を実施した)

【3】東南アジアについて、次の問いに答えなさい。

- 東南アジアでは、中国から移住した人々が多く住んで活躍している。この中国系の人々は何と呼ばれていますか。
(華人)
- マレーシアやインドネシアに見られるゴムなどの大農園を何といいますか。
(プランテーション)
- 次の文中の に当てはまる宗教をそれぞれ答えなさい。
①(仏) ②(イスラム) ③(ヒンドゥー)

東南アジアの宗教分布はさまざま、タイやミャンマーでは 教徒が大多数をしめ、インドネシア人やマレー人には 教徒が多く、インド人は 教徒が多い。

- 次の①・②にあてはまる国を、地図中のA～Dから選び、記号と国名も答えなさい。



- 石油などの地下資源も多く、米の生産もさかんである。また、マングローブが広がる海岸では日本向けのえびの養殖場がつくられている。
(記号 C 国名 インドネシア)
- 工業の成長が著しく、韓国などとともにアジア NIES と呼ばれている。
(記号 B 国名 シンガポール)