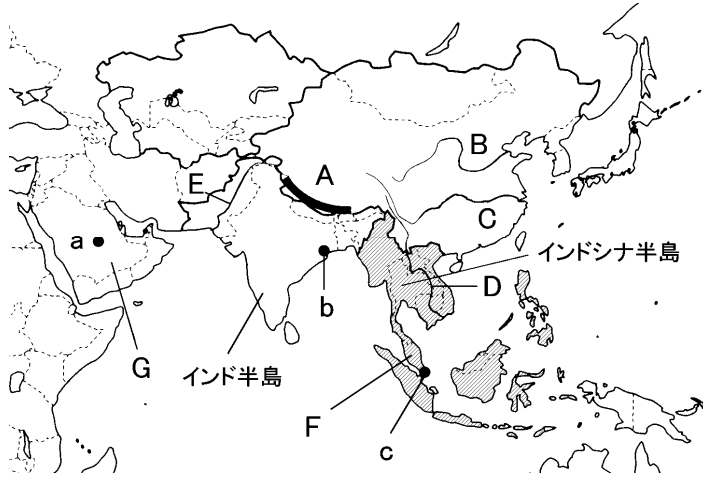


得点	演習問題			実施日	月 日	氏名
	西アジア～東南アジア ①					

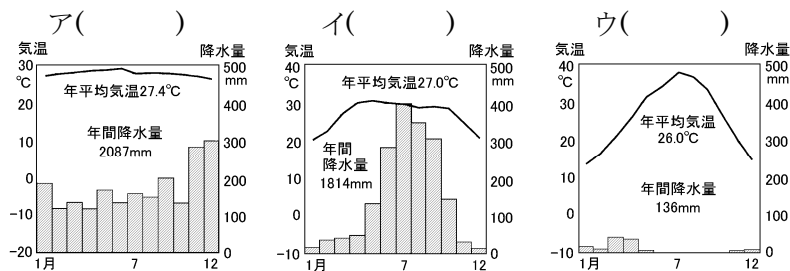
【1】下の地図を見て、次の問いに答えなさい。



- (1) 地図中の A の山脈名を答えなさい。()
- (2) 地図中の B～E の河川名をそれぞれ答えなさい。
 B() C()
 D() E()
- (3) 地図中の F・G の半島名をそれぞれ答えなさい。
 F() G()
- (4) 次の①～③の□にあてはまる語句を、あとのア～キから1つずつ選び記号で答えなさい。
- ①西アジアや中央アジアには□が広がっている。()
- ②シベリアでは、□や寒帯の気候が兄られる。()
- ③インドシナ半島やインド半島では、□の影響で雨季と乾季がある。()

ア 四季	イ 偏西風	ウ 熱帯	エ 季節風
オ 冷帯	カ 針葉樹	キ さばく	

(5) 下のア～ウのグラフは、地図中の a～c のいずれかの都市の気温と降水量を表したものである。それぞれいずれの都市のものですか。



(6) 次の文の①～③にあてはまる語句を答えなさい。
 ①() ②() ③()

東南アジアの宗教分布はさまざま、タイやミャンマーでは①教徒が大多数をしめ、インドネシア人やマレー人には②教徒が多く、インド人は③教徒が多い。

- (7) 地図中の c の都市は韓国やホンコン・台湾などととも工業化に取り組み、近年、急成長をとげた。このような国や地域を何とといいますか。アルファベットで答えなさい。()
- (8) 地図中の斜線を引いた東南アジア諸国は経済・社会の発展、貿易の拡大などをめざす組織に加盟している。この組織を何とといいますか。アルファベットで答えなさい。()

【2】下の地図と文について、次の問いに答えなさい。

[地図]

西アジアの国々では、人々の大半が、①語を使い、②教徒である。上の地中の C の③湾をとりまく地域は、世界最大の油田地帯である。1960年に石油産出国であるイランやサジアラビアが中心になり、a石油輸出国機構をつくり、1973年の④危機をきっかけに、b石油価格の決定権を持つようになった。

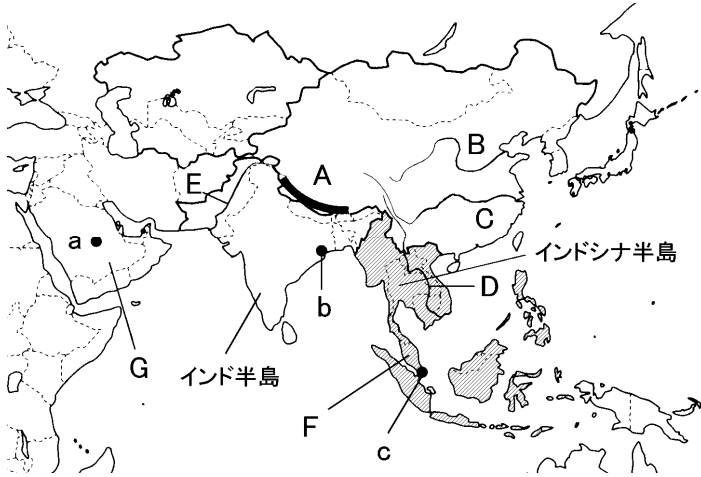
- (1) A の川の名を答えなさい。()
- (2) B の半島名を答えなさい。()
- (3) 文中の①～④にあてはまる語句を、次のア～キから1つずつ選び記号で答えなさい。
 ①() ②() ③() ④()

ア ベンガル	イ キリスト	ウ アラビア	エ石油
オ イスラム	カ ペルシャ	キ フランス	

- (4) 下線部 a の機構の略称をアルファベットで答えなさい。()
- (5) 下線部 b によって石油の輸出による利益が増大して、地図中 C の沿岸の国は大きく発展している。地図中 D の都市はその象徴で、近代的なビルが建ち、世界の全融機関が集まっている。この都市の名と、都市がある国の名前を答えなさい。
 都市() 国()
- (6) 西アジアのほとんどの国の住民が信仰し、人々の生活に大きな影響を与えている宗教がおこったメッカの場所を、地図中のア～エから選び記号で答えなさい。()
- (7) 中央アジアに位置するウズベキスタンは、1991年に独立しているが、かつては何という国に属していましたか。()

得点	演習問題〔解答〕	実施日	月 日	氏名

【1】下の地図を見て、次の問いに答えなさい。

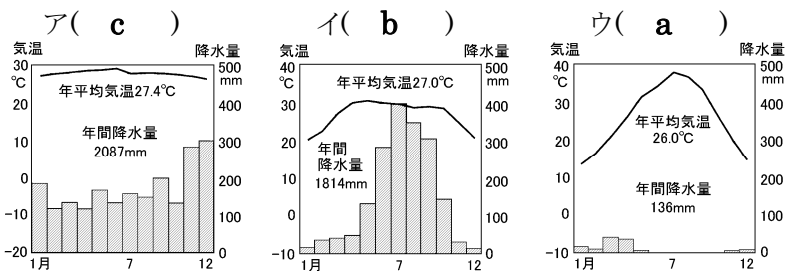


- (1) 地図中の A の山脈名を答えなさい。
(ヒマラヤ山脈)
- (2) 地図中の B～E の河川名をそれぞれ答えなさい。
B(黄河) C(長江)
D(メコン川) E(インダス川)
- (3) 地図中の F・G の半島名をそれぞれ答えなさい。
F(マレー半島) G(アラビア半島)
- (4) 次の①～③の□にあてはまる語句を、あとのア～キから1つずつ選び記号で答えなさい。

- ①西アジアや中央アジアには□が広がっている。(キ)
- ②シベリアでは、□や寒帯の気候が兄られる。(オ)
- ③インドシナ半島やインド半島では、□の影響で雨季と乾季がある。(エ)

ア 四季	イ 偏西風	ウ 熱帯	エ 季節風
オ 冷帯	カ 針葉樹	キ さばく	

(5) 下のア～ウのグラフは、地図中の a～c のいずれかの都市の気温と降水量を表したものである。それぞれいずれの都市のものですか。



(6) 次の文の①～③にあてはまる語句を答えなさい。
①(仏) ②(イスラム) ③(ヒンドゥー)

東南アジアの宗教分布はさまざま、タイやミャンマーでは①教徒が大多数をしめ、インドネシア人やマレー人には②教徒が多く、インド人は③教徒が多い。

(7) 地図中の c の都市は韓国やホンコン・台湾などとともに工業化に取り組み、近年、急成長をとげた。このような国や地域を何とといいますか。アルファベットで答えなさい。

(NIES)

(8) 地図中の斜線を引いた東南アジア諸国は経済・社会の発展、貿易の拡大などをめざす組織に加盟している。この組織を何とといいますか。アルファベットで答えなさい。

(ASEAN)

【2】下の地図と文について、次の問いに答えなさい。

〔地図〕

A map of West Asia. Label A points to the Tigris River. Label B points to the Arabian Peninsula. Label C points to the Persian Gulf. Label D points to the Euphrates River. Point a is marked in the Persian Gulf region. Point b is marked in the Persian Gulf region. Point c is marked in the Persian Gulf region.

西アジアの国々では、人々の大半が、①語を使い、②教徒である。上の地中の C の③湾をとりまく地域は、世界最大の油田地帯である。1960年に石油産出国であるイランやサジアラビアが中心になり、a石油輸出国機構をつくり、1973年の④危機をきっかけに、b石油価格の決定権を持つようになった。

- (1) A の川の名を答えなさい。(チグリス川)
- (2) B の半島名を答えなさい。(アラビア半島)
- (3) 文中の①～④にあてはまる語句を、次のア～キから1つずつ選び記号で答えなさい。
①(ウ) ②(オ) ③(カ) ④(エ)

ア ベンガル	イ キリスト	ウ アラビア	エ 石油
オ イスラム	カ ペルシヤ	キ フランス	

- (4) 下線部 a の機構の略称をアルファベットで答えなさい。
(OPEC)
- (5) 下線部 b によって石油の輸出による利益が増大して、地図中 C の沿岸の国は大きく発展している。地図中 D の都市はその象徴で、近代的なビルが建ち、世界の全融機関が集まっている。この都市の名と、都市がある国の名前を答えなさい。
都市(ドバイ) 国(アラブ首長国連邦)

(6) 西アジアのほとんどの国の住民が信仰し、人々の生活に大きな影響を与えている宗教がおこったメッカの場所を、地図中のア～エから選び記号で答えなさい。
(ウ)

(7) 中央アジアに位置するウズベキスタンは、1991年に独立しているが、かつては何という国に属していましたか。
(ソビエト連邦)