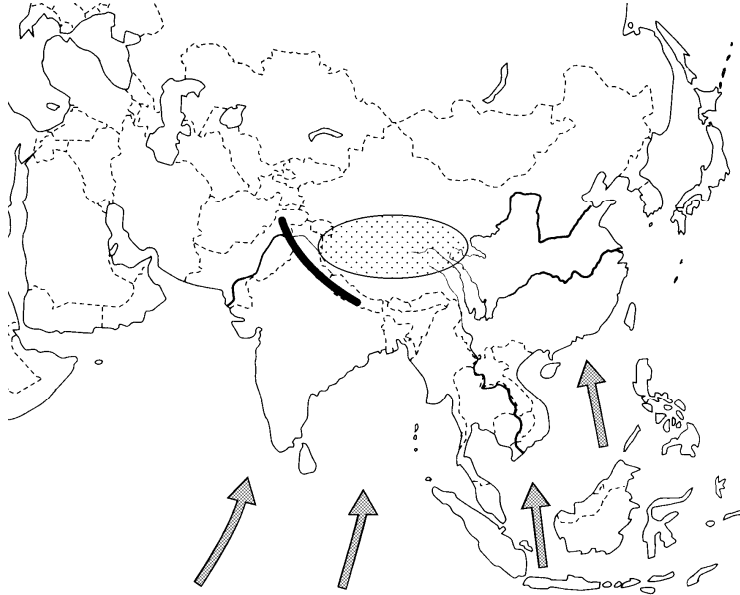


アジア

(1) 地形

中央部には_____山脈がそびえ、「世界の屋根」といわれる_____高原が広がる。これらの山地から_____や_____、メコン川、インダス川などの大河が流れ、中下流には平野が広がる。大陸の東側からには南東側には日本列島をはじめ多くの島々があり、西部のアラビア半島や中央アジアに_____が広がる。



(2) 気候

大陸の北部のシベリア… _____帯や _____帯

内陸部…ステップ気候や _____気候

中央高地…高山気候

海岸に近い東部…季節風(_____)により四季が明確

インドシナ半島・インド半島…インド洋からのモンスーンにより、_____季と_____季

赤道付近…一年じゅう高温で雨が多く降る

(3) アジア州の特色

アジア州は世界の約_____の人口をしめ、人口密度の高い地域も多い。

また、たび重なる人々の移動によって多くの民族が入り交じり文化も変わってきている。

東アジア…中国の影響を古くから受ける。→漢字を用いる

西アジア… _____語を用い、 _____教を信仰している

アジア

(4) アジアの産業の変化

_____・台湾・ホンコン・_____は、戦後、工業化が進み_____
(新興工業経済地域)とよばれた。また、タイ・マレーシア・インドネシアなど_____
(東南アジア諸国連合)では近年、外国企業を受け入れ急速に工業化が進んだ。

(5) 経済、成長がいちじるしい中国とインド

① 人口が多い中国とインド

中国… 13.5 億人→人口の増加を抑制するため「_____」を実施。

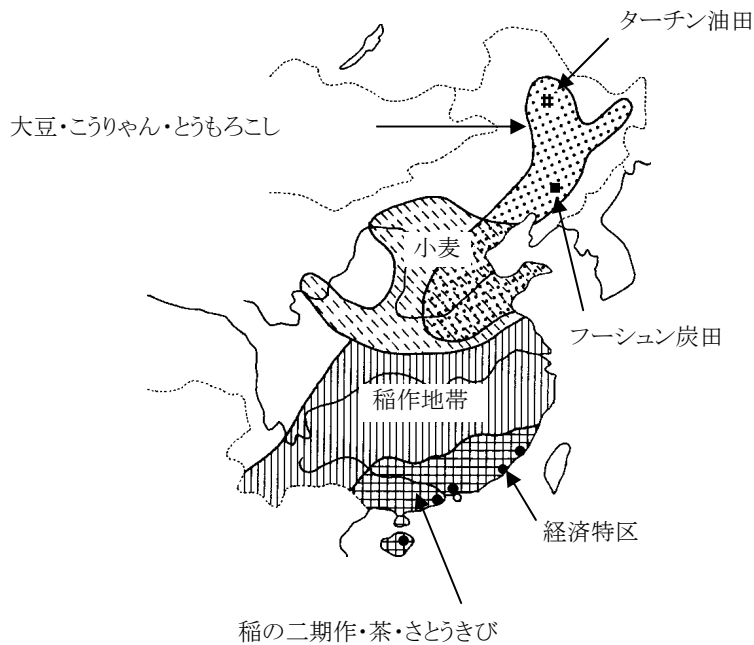
インド…12.1 億人→2030 年ごろに中国を抜くと予想。

② 中国の工業化と拡大する格差

対外経済開放政策…シェンチェンやアモイなど_____に外国資本を。

首都・ペキン… 政府機関や大学が集中している。

ハイテク[先端技術]産業や情報技術(IT)産業が発達。



アジア

③ インドの工業の成長…欧米の情報専門会社が進出

情報技術産業が成長… 英語や数学の教育水準の高さが成長を支える。
技術者の育成に国や州が援助。

④ 急速な成長と人々のつながり

台湾ではアメリカの _____ で働いていた人々が戻り、コンピューターや半導体などのハイテク産業が成長。

(7) 急速に変わる東南アジア



① 増える日本への輸出

家電製品、家具や自転車、衣類や日用雑貨など。

日本向けの _____ の養殖場がつくられる。

② 農村のくらしの変化

かつては人手をかけて米づくり。二期作も行っていた。

かんがい設備の整備、機械化で人手があまり、若者が都市へ。

植民地時代の _____ を現地の人々によって経営。

③ 急速な都市化と課題

都市の人口がふえ、交通渋滞などの都市問題がおこる。

アジア

(8) 多様な民族と経済成長

① 西アジアの国々

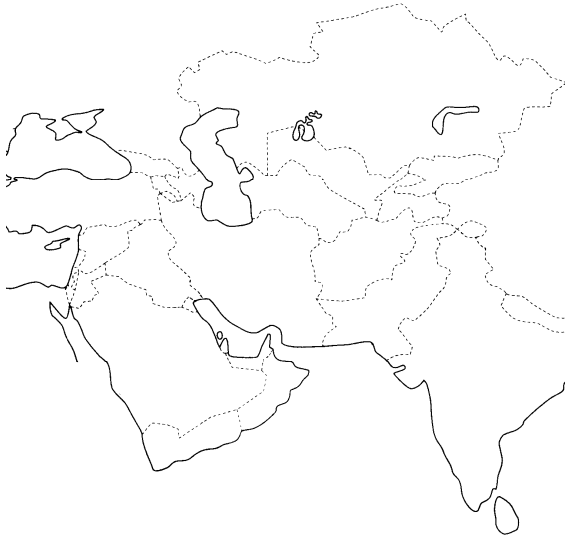
石油を輸出。_____ [石油輸出国機構] などを通して結束。

石油の資金を使って、重化学工業化や生活基盤の整備を進める。

_____ … アラブ首長国連邦の最大の都市。

世界の金融機関が集まり発展。

近代的なビルが立ち並ぶ。



② 中央アジアの国々

石炭や石油、天然ガス、希少金属 [_____]

などの地下資源を輸出して経済成長

③ 多様なアジアの結びつき

アジアの人々の宗教や文化は多様

中国…人口の 9 割が漢族。漢族のほかに 55 の少数民族→多民族国家。

マレーシア…マレー人、中国系の華人、インド系の人々→いろいろな宗教を信仰