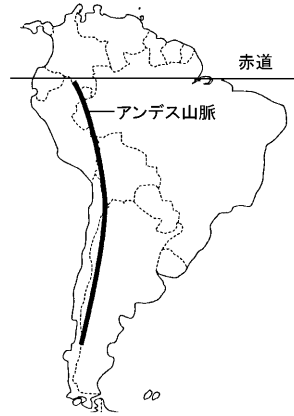


得点	<b>演習問題</b>			実施日	月 日	氏名
	世界各地のくらし ③					

【1】右下の地図を見て、次の問いに答えなさい。

(1) アンデス山脈中央部にあるペルーに色をぬりなさい。

(2) ペルーの高地でくらししている人々のようすについて、次の①～③の [ ] にあてはまる語句を、あとの [ ] から1つずつ選びなさい。




① この地域は、[ ] が近いにもかかわらず、標高が高いため、一年中すずしい気候である。  
( )

② ここでは住居の周りは寒くて作物が育たないので、[ ] や羊の放牧をしている。  
( )

③ この地域では、住居より低い場所で [ ] やトウモロコシをつくっている。  
( )

- |       |    |       |
|-------|----|-------|
| ジャガイモ | 赤道 | 本初子午線 |
| アルパカ  | 米  | 牛 豚   |

(3) この地域で見られる服装を、下のア～ウから1つ選びなさい。  
( )



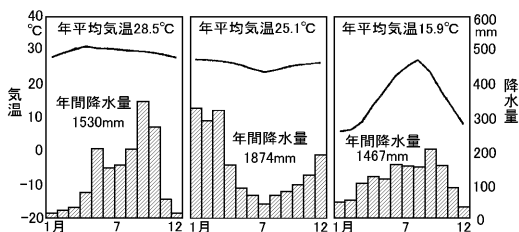
【2】タイのバンコクについて次の問いに答えなさい。

(1) タイの首都バンコクは、何という川の下流の湿地につくられた都市ですか。  
( )

(2) (1)の川は、バンコクの重要な交通路になっている。この川を移動するのに使われているものは何ですか。  
( )

(3) バンコクの気候は熱帯に属するが、気候にはどんな特色があるのか簡単に書きなさい。  
( )

(4) 下のグラフはバンコク、ナディ(フィジー)、東京の気温と降水量を表している。バンコクのグラフをア～ウから1つ選びなさい。  
( )



(5) バンコクの気候の特色から考えてこの地域の伝統的な住居は下のどれと考えられますか。1つ選びなさい。  
( )



【4】次の文を読んで、あとの問いに答えなさい。

ペルーの高い土地にくらす人々の住居は、① や石でつくられている。入り口は小さく窓もない。人々は② や③ アルパカを家畜として飼っているが、これらの家畜を食料にすることはない。また、これらの家畜のふんは④ や⑤ 肥料にも使われている。

(1) ①にあてはまる語句を、次のア～エから1つ選びなさい。  
( )

- |        |          |
|--------|----------|
| ア 丸太   | イ 日干しれんが |
| ウ やしの葉 | エ コンクリート |

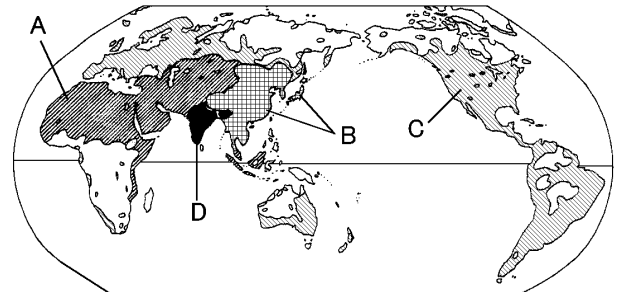
(2) ②には、この地で荷物を運ぶのに使われている家畜名が入ります。この家畜名を答えなさい。  
( )

(3) 下線部③の家畜の毛でつくられたもので、高地の寒さや風を防ぐためにつくられたこの地域の独特の衣類を何といいますか。  
( )

(4) ④にあてはまる語句を答えなさい。  
( )

(5) 下線部⑤に関連して、この地域ではジャガイモやトウモロコシの栽培が行われているが、これらの作物はどんなどころで栽培されていますか。住居と土地の高さに着目して簡単に答えなさい。  
( )

【4】下の地図は世界の宗教の分布を表している。これについて、次の問いに答えなさい。



(1) 地図の A～D にあてはまる宗教をそれぞれ答えなさい。

- |      |      |
|------|------|
| A( ) | B( ) |
| C( ) | D( ) |

(2) 下のア・イの写真にあう宗教を A～D から選び、それぞれ記号で答えなさい。ア( ) イ( )



(3) 下の文は、地図中のそれぞれの宗教のきまりを表していますか。地図中の A～D から選び記号で答えなさい。

- ①( ) ②( ) ③( ) ④( ) ⑤( )

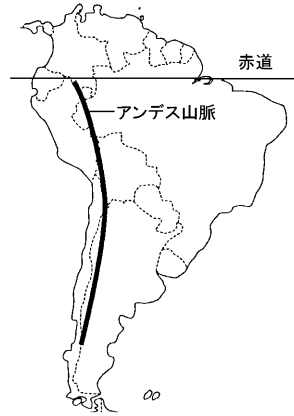
- ① 毎年1度、約1か月の間、昼間に断食を行う。
- ② 日曜日になると教会に行く。
- ③ 豚肉は食べないし、酒も飲まない。
- ④ 神の使いである牛は神聖なものとして食べない。
- ⑤ 1日に5回、聖地メッカに向かって礼拝をする。

得点	<b>演習問題〔解答〕</b>	実施日	月 日	氏名

【1】右下の地図を見て、次の問いに答えなさい。

(1) アンデス山脈中央部にあるペルーに色をぬりなさい。

(2) ペルーの高地でくらししている人々のようすについて、次の①～③の [ ] にあてはまる語句を、あとの [ ] から1つずつ選びなさい。




① この地域は、[ ] が近いにもかかわらず、標高が高いため、一年中すずしい気候である。  
( 赤道 )

② ここでは住居の周りは寒くて作物が育たないので、[ ] や羊の放牧をしている。  
( アルパカ )

③ この地域では、住居より低い場所で [ ] やトウモロコシをつくっている。  
( ジャガイモ )

- |       |    |       |
|-------|----|-------|
| ジャガイモ | 赤道 | 本初子午線 |
| アルパカ  | 米  | 牛 豚   |

(3) この地域で見られる服装を、下のア～ウから1つ選びなさい。  
( イ )



【2】タイのバンコクについて次の問いに答えなさい。

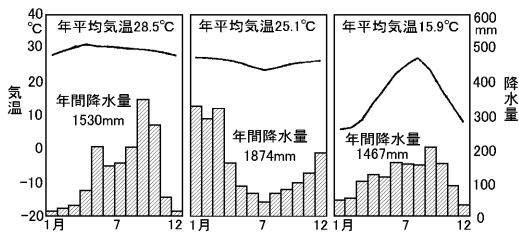
(1) タイの首都バンコクは、何という川の下流の湿地につくられた都市ですか。  
( チャオプラヤ川 )

(2) (1)の川は、バンコクの重要な交通路になっている。この川を移動するのに使われているものは何ですか。  
( 水上バス )

(3) バンコクの気候は熱帯に属するが、気候にはどんな特色があるのか簡単に書きなさい。

[ 年中気温が高い熱帯であるが雨季と乾季がある。 ]

(4) 下のグラフはバンコク、ナディ(フィジー)、東京の気温と降水量を表している。バンコクのグラフをア～ウから1つ選びなさい。  
ア イ ウ ( ア )



(5) バンコクの気候の特色から考えてこの地域の伝統的な住居は下のどれと考えられますか。1つ選びなさい。  
ア イ ウ



【4】次の文を読んで、あとの問いに答えなさい。

ペルーの高い土地にくらす人々の住居は、① や石でつくられている。入り口は小さく窓もない。人々は② や③ アルパカを家畜として飼っているが、これらの家畜を食料にすることはない。また、これらの家畜のふんは④ や⑤ 肥料にも使われている。

(1) ①にあてはまる語句を、次のア～エから1つ選びなさい。  
( イ )

- |        |          |
|--------|----------|
| ア 丸太   | イ 日干しれんが |
| ウ やしの葉 | エ コンクリート |

(2) ②には、この地で荷物を運ぶのに使われている家畜名が入ります。この家畜名を答えなさい。  
( リヤマ )

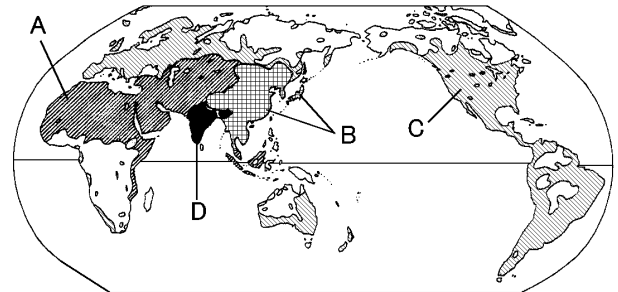
(3) 下線部③の家畜の毛でつくられたもので、高地の寒さや風を防ぐためにつくられたこの地域の独特の衣類を何といいますか。  
( ポンチョ )

(4) ④にあてはまる語句を答えなさい。  
( 燃料 )

(5) 下線部⑤に関連して、この地域ではジャガイモやトウモロコシの栽培が行われているが、これらの作物はどなたどこで栽培されていますか。住居と土地の高さに着目して簡単に答えなさい。

[ 住居より高度の低い土地で栽培している ]

【4】下の地図は世界の宗教の分布を表している。これについて、次の問いに答えなさい。



(1) 地図の A～D にあてはまる宗教をそれぞれ答えなさい。

- |            |             |
|------------|-------------|
| A( イスラム教 ) | B( 仏教 )     |
| C( キリスト教 ) | D( ヒンドゥー教 ) |

(2) 下のア・イの写真にあう宗教を A～D から選び、それぞれ記号で答えなさい。  
ア( A ) イ( C )



(3) 下の文は、地図中のそれぞれの宗教のきまりを表していますか。地図中の A～D から選び記号で答えなさい。

- ①( A ) ②( C ) ③( A ) ④( D ) ⑤( A )

- ① 毎年1度、約1か月の間、昼間に断食を行う。
- ② 日曜日になると教会に行く。
- ③ 豚肉は食べないし、酒も飲まない。
- ④ 神の使いである牛は神聖なものとして食べない。
- ⑤ 1日に5回、聖地メッカに向かって礼拝をする。