

得点	演習問題			実施日	月 日	氏名
	世界各地のくらし ②					

【1】 次の問いに答えなさい。

(1) フィジーの気温は年をとおしておよそ 25℃と高く、季節の変化はほとんどない。このような気候帯を何といいますか。
()

(2) (1)の地域にあるうっそうとした林を何といいますか。
()

(3) 右の図はフィジーで見られる住居である。屋根には何が使われているか。次のア～エから 1 つ選びなさい。
()



- ア マングローブ イ 稲のわら
- ウ やしの葉 エ 小石

(4) 下の文の□にあてはまる語句を答えなさい。
()

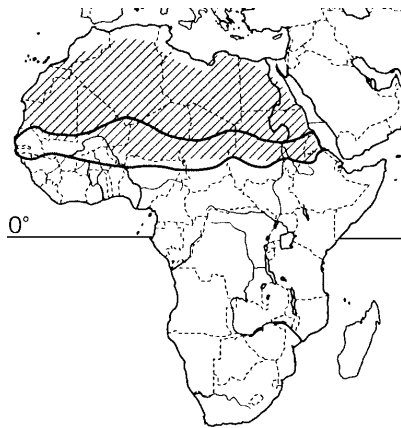
フィジーの島の周辺には美しい□が発達している。この豊かな自然を求めて、オーストラリアなどから多くの観光客がやってくる。

(5) フィジーの輸出品を、次のア～オから 2 つ選びなさい。
() ()

- ア まぐろ イ 米 ウ 小麦 エ コプラ オ マングローブ

【2】 右の地図を見て、次の問いに答えなさい。

(1) 地図中の太線で囲った部分は「サハラさばく」という意味の地域である。この地域は何と呼ばれていますか。
()



(2) 地図中の斜線の地域は、一年中暑く、とても乾燥していて雨の少ない地域である。このような気候帯を何といいますか。
()

(3) 次の文を読んで、あとの問いに答えなさい。

この地域には、a サハラさばくを縦断してものを運んだり、羊ややぎの b を行ったりして民族がくらししている。また、サハラさばくでは、地下水がわき出る c 以外では樹木がほとんど育たないが、サヘルでは少ない雨を利用して d 乾燥に強いひえやきび、もろこしといった穀物を栽培してきた。

① 下線部 a について、荷物を運ぶのに利用されている動物を、次のア～エから 1 つ選びなさい。
()

- ア 馬 イ らくだ ウ 牛 エ トナカイ

② 文中の b にあてはまる語句を、次のア～エから 1 つ選びなさい。
()

- ア 遊牧 イ 放牧 ウ 酪農 エ 移牧

③ 文中の c にあてはまる語句をカタカナで答えなさい。
()

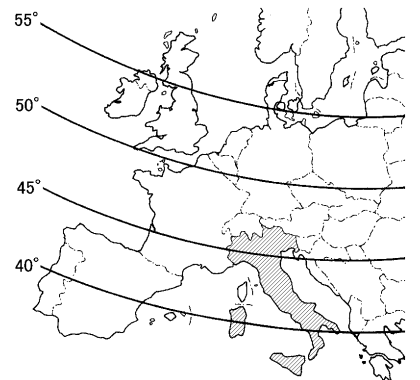
④ 下線部 d について、この地域では何と呼ばれる農業が行われているか。
()

(4) この地域では砂漠化が進んでいる。この現象がおきた原因の 1 つとして考えられるものを、次のア～エから 1 つ選びなさい。
()

- ア 年平均気温が異常に高くなったため、ひでりの年が続いた。
- イ 住む人が少なくなった。
- ウ 人口が増加したため、草原を耕地にかえたり、家畜の頭数を増やしたりした。
- エ 製紙・パルプ材用として、立ち木の無計画な伐採が続いた。

【3】 右の地図を見て、次の問いに答えなさい。

(1) イタリアの中部は、日本のどこと同じ緯度にありますか。次のア～エから 1 つ選びなさい。
()

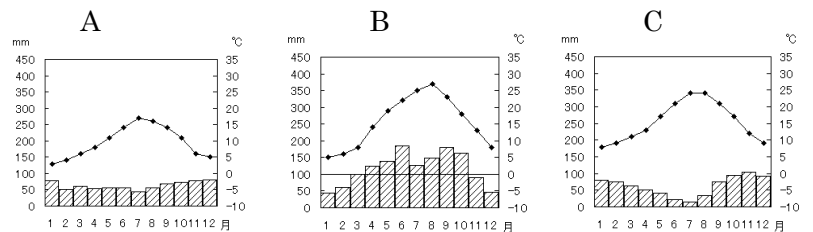


- ア 沖縄
- イ 九州北部
- ウ 東京
- エ 北海道

(2) イタリアの地中海沿岸地域は日本と同じ温帯に属しているが、日本と違う気候の特徴を持っている。日本と違っているところを次のア～エから 2 つ選びなさい。
() ()

- ア 冬はまったく雨が降らず、乾燥した気候になる。
- イ 梅雨がなく、6～8月の夏は暑い乾燥している。
- ウ 雨の多くは冬に降るが、あまり寒くならない。
- エ 一年中、気温が 20℃くらいで、変化があまりない。

(3) 地中海沿岸にあるイタリアのような気候を何と呼んでいますか。また、イタリアの気候を表すグラフを下から選び記号で答えなさい。
() 気候) グラフ()



(4) イタリアで温暖な気候を生かして多く栽培されている作物を、次のア～エから 1 つ選びなさい。
()

- ア ジャガイモ・とうもろこし・豆
- イ ひえ・米・とうもろこし
- ウ ぶどう・オリーブ・トマト
- エ マンゴー・バナナ・パイナップル

(5) イタリアの多くの住居のかべは何が使われているか。次のア～エから 1 つ選びなさい。
()

- ア 丸太 イ 日干しれんが ウ 石 エ 竹

得点		演習問題〔解答〕	実施日	月	日	氏名
				世界各地のくらし ②		

【1】 次の問いに答えなさい。

(1) フィジーの気温は年をとおしておよそ 25℃と高く、季節の変化はほとんどない。このような気候帯を何といますか。
(熱帯)

(2) (1)の地域にあるうっそうとした林を何といますか。
(熱帯雨林)

(3) 右の図はフィジーで見られる住居である。屋根には何が使われているか。次のア～エから 1 つ選びなさい。
(ウ)



- ア マングローブ
- イ 稲のわら
- ウ やしの葉
- エ 小石

(4) 下の文の□にあてはまる語句を答えなさい。
(さんご礁)

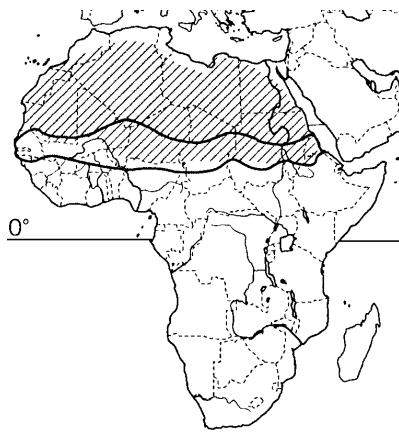
フィジーの島の周辺には美しい□が発達している。この豊かな自然を求めて、オーストラリアなどから多くの観光客がやってくる。

(5) フィジーの輸出品を、次のア～オから 2 つ選びなさい。
(ア)(エ)

- ア まぐろ
- イ 米
- ウ 小麦
- エ コプラ
- オ マングローブ

【2】 右の地図を見て、次の問いに答えなさい。

(1) 地図中の太線で囲った部分は「サハラのふち」という意味の地域である。この地域は何と呼ばれていますか。
(サヘル)



(2) 地図中の斜線の地域は、一年中暑く、とても乾燥していて雨の少ない地域である。このような気候帯を何といますか。
(乾燥帯)

(3) 次の文を読んで、あとの問いに答えなさい。

この地域には、a サハラさばくを縦断してものを運んだり、羊ややぎの b を行ったりして民族がくらししている。また、サハラさばくでは、地下水がわき出る c 以外では樹木がほとんど育たないが、サヘルでは少ない雨を利用して d 乾燥に強いひえやきび、もろこしといった穀物を栽培してきた。

① 下線部 a について、荷物を運ぶのに利用されている動物を、次のア～エから 1 つ選びなさい。
(イ)

- ア 馬
- イ らくだ
- ウ 牛
- エ トナカイ

② 文中の b にあてはまる語句を、次のア～エから 1 つ選びなさい。
(ア)

- ア 遊牧
- イ 放牧
- ウ 酪農
- エ 移牧

③ 文中の c にあてはまる語句をカタカナで答えなさい。
(オアシス)

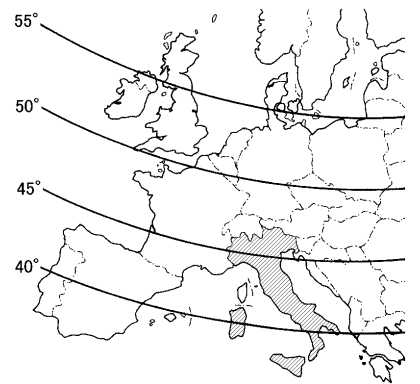
④ 下線部 d について、この地域では何と呼ばれる農業が行われているか。
(焼畑農業)

(4) この地域では砂漠化が進んでいる。この現象がおきた原因の 1 つとして考えられるものを、次のア～エから 1 つ選びなさい。
(ウ)

- ア 年平均気温が異常に高くなったため、ひでの年が続いた。
- イ 住む人が少なくなった。
- ウ 人口が増加したため、草原を耕地にかえたり、家畜の頭数を増やしたりした。
- エ 製紙・パルプ材用として、立ち木の無計画な伐採が続いた。

【3】 右の地図を見て、次の問いに答えなさい。

(1) イタリアの中部は、日本のどこと同じ緯度にありますか。次のア～エから 1 つ選びなさい。
(エ)

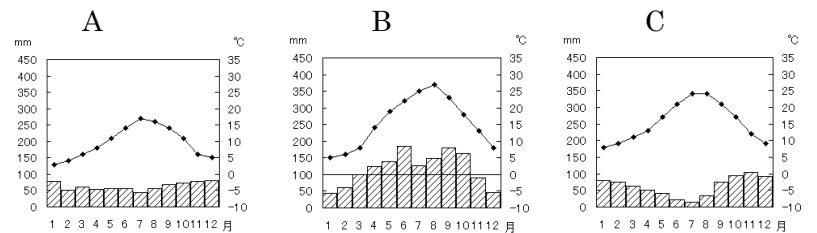


- ア 沖縄
- イ 九州北部
- ウ 東京
- エ 北海道

(2) イタリアの地中海沿岸地域は日本と同じ温帯に属しているが、日本と違う気候の特徴を持っている。日本と違っているところを次のア～エから 2 つ選びなさい。
(イ)(ウ)

- ア 冬はまったく雨が降らず、乾燥した気候になる。
- イ 梅雨がなく、6～8月の夏は暑い乾燥している。
- ウ 雨の多くは冬に降るが、あまり寒くない。
- エ 一年中、気温が 20℃くらいで、変化があまりない。

(3) 地中海沿岸にあるイタリアのような気候を何と呼んでいますか。また、イタリアの気候を表すグラフを下から選び記号で答えなさい。
(地中海性気候) グラフ (C)



(4) イタリアで温暖な気候を生かして多く栽培されている作物を、次のア～エから 1 つ選びなさい。
(ウ)

- ア ジャガイモ・とうもろこし・豆
- イ ひえ・米・とうもろこし
- ウ ぶどう・オリーブ・トマト
- エ マンゴー・バナナ・パイナップル

(5) イタリアの多くの住居のかべは何が使われているか。次のア～エから 1 つ選びなさい。
(ウ)

- ア 丸太
- イ 日干しれんが
- ウ 石
- エ 竹