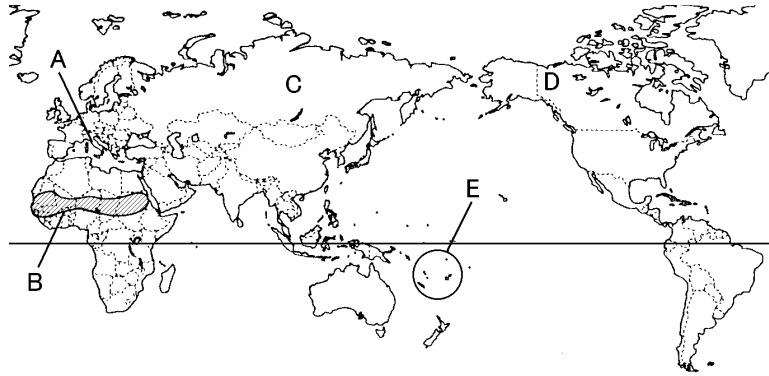


得点	演習問題			実施日	月 日	氏名
	世界各地の暮らし ①					

【1】下の地図を見て、次の問いに答えなさい。



(1) イヌイットと呼ばれる人々が住んでいる地域を、地図中の A~E から 1 つ選びなさい。()

(2) 地図中の B は「サヘル」と呼ばれる地域ですが、ここでは、どんな地球環境問題が進行していますか。()

(3) 次の①~⑤にあてはまる地域を、地図中の A~E から 1 つずつ選びなさい。

- ① 気温が 0℃以下の期間が長く、一年の大半は雪と氷におおわれている。()
- ② 冬と夏の気温の差が大きい。冬には-30℃を下回る日があり、夏は 30℃近くになる日も多い。()
- ③ 日本と同じように温帯に属するが、日本と違って梅雨はなく、冬も寒くならない。()
- ④ 一年じゅう暑く、雨もほとんどふらないので、乾燥した土地になっている。()
- ⑤ 一年を通して気温がおおよそ 25℃と高く、季節の変化がほとんどない。()

(4) 下の①と②の建物が見られる地域を、地図中の A~E から 1 つずつ選びなさい。 ①() ②()




【2】次の問いに答えなさい。

(1) 次の文を読んで、あとの問いに答えなさい。

フィジーの人口の半分以上の人が住むビチレブ島の山の中にはたくさんの集落が見られる。かれらは自給自足に近い生活を送っている。畑では a 主食となる作物が栽培されている。また、b 熱帯にあるうっそうとした林にはグアバやマンゴー、バナナなどの果物が自然に生えている。

① フィジーに住む人の服装を、下のア~エから選びなさい。()



② 下線部 a にあてはまる作物の組み合わせを、次のア~エから 1 つ選びなさい。()

- ア ジャガイモ・とうもろこし イ 米・野菜
- ウ タロイモ・キャッサバ エ 小麦・オレンジ

③ 下線部 b の林を何といますか。()

【3】次の問いに答えなさい。


(1) 右の写真は北極海に面したカナダ北部で狩りをしてくらしている人々である。カナダでは、この人々を何と呼んでいますか。()



(2) カナダの北部は、気温が 0℃以下の期間が長く一年の大半は雪と氷におおわれ、夏にわずかにコケが生える。このような地域の気候帯を何といますか。()

(3) 写真では犬ぞりで移動しているが、現在では犬ぞりに変わって、何が使われていますか。()

(4) 写真の人々が、冬に狩りをするためにつくった家を、下のア~ウから 1 つ選びなさい。()



【4】次の文を読んで、あとの問いに答えなさい。

シベリアに住む人々は、冬になると厚いコートを着て、大きな帽子をかぶる。住居では太い丸太を組み合わせたログハウスがよく見られ、a 住居はとても寒い冬を乗り切るための工夫がされている。

また、シベリアは冬の気温は低いですが、夏は気温が上がるので右の写真のような広大な b 針葉樹の林が広がっている。



(1) 下線部 a について、次の①・②について答えなさい。

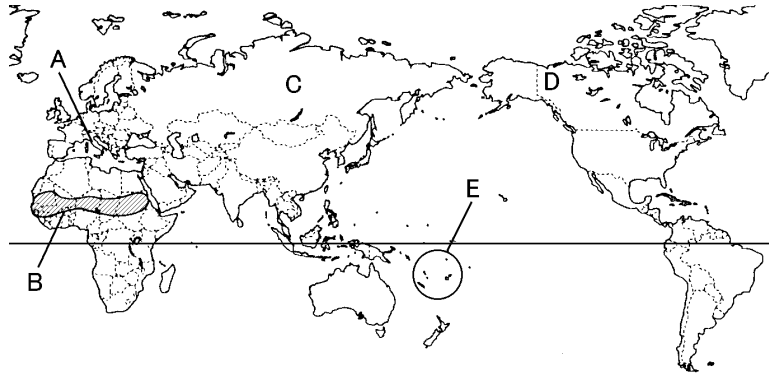
- ① 住居の窓には、どのような工夫がされているか、簡単に答えなさい。()
- ② 住居の玄関のとびらはどのような工夫がされているか、簡単に答えなさい。()

(2) 下線部 b の針葉樹林を何といますか。カタカナで答えなさい。()

(3) (2)の下には、一年じゅうこおったままの土がある。これを何と呼んでいますか。()

得点	演習問題 (解答)			実施日	月 日	氏名
	世界各地のくらし ①					

【1】下の地図を見て、次の問いに答えなさい。



(1) イヌイトと呼ばれる人々が住んでいる地域を、地図中の A～E から 1 つ選びなさい。 (D)

(2) 地図中の B は「サヘル」と呼ばれる地域ですが、ここでは、どんな地球環境問題が進行していますか。 (砂漠化)

(3) 次の①～⑤にあてはまる地域を、地図中の A～E から 1 つずつ選びなさい。

- ① 気温が 0℃以下の期間が長く、一年の大半は雪と氷におおわれている。 (D)
- ② 冬と夏の気温の差が大きい。冬には-30℃を下回る日があればあるが、夏は 30℃近くになる日も多い。 (C)
- ③ 日本と同じように温帯に属するが、日本と違って梅雨はなく、冬も寒くならない。 (A)
- ④ 一年じゅう暑く、雨もほとんどふらないので、乾燥した土地になっている。 (B)
- ⑤ 一年を通して気温がおよそ 25℃と高く、季節の変化がほとんどない。 (E)

(4) 下の①と②の建物が見られる地域を、地図中の A～E から 1 つずつ選びなさい。 ①(E) ②(D)




【2】次の問いに答えなさい。

(1) 次の文を読んで、あとの問いに答えなさい。

フィジーの人口の半分以上の人が住むビチレブ島の山の中にはたくさんの集落が見られる。かれらは自給自足に近い生活を送っている。畑では a 主食となる作物が栽培されている。また、b 熱帯にあるうっそうとした林にはグアバやマンゴー、バナナなどの果物が自然に生えている。

① フィジーに住む人の服装を、下のア～エから選びなさい。 (エ)



② 下線部 a にあてはまる作物の組み合わせを、次のア～エから 1 つ選びなさい。 (ウ)

- ア ジャガイモ・とうもろこし イ 米・野菜
- ウ タロイモ・キャッサバ エ 小麦・オレンジ

③ 下線部 b の林を何といますか。 (熱帯雨林)

【3】次の問いに答えなさい。

(1) 右の写真は北極海に面したカナダ北部で狩りをしてもらしている人々である。カナダでは、この人々を何と呼んでいますか。 (イヌイト)




※アラスカなどではエスキモーという

(2) カナダの北部は、気温が 0℃以下の期間が長く一年の大半は雪と氷におおわれ、夏にわずかにコケが生える。このような地域の気候帯を何といますか。 (寒帯)

(3) 写真では犬ぞりで移動しているが、現在では犬ぞりに変わって、何が使われていますか。 (スノーモービル)

(4) 写真の人々が、冬に狩りをするためにつくった家を、下のア～ウから 1 つ選びなさい。 (ア)
「イグルー」という



【4】次の文を読んで、あとの問いに答えなさい。

シベリアに住む人々は、冬になると厚いコートを着て、大きな帽子をかぶる。住居では太い丸太を組み合わせたログハウスがよく見られ、a 住居はとても寒い冬を乗り切るための工夫がされている。
また、シベリアは冬の気温は低い、夏は気温が上がるので右の写真のような広大な b 針葉樹の林が広がっている。



(1) 下線部 a について、次の①・②について答えなさい。

- ① 住居の窓には、どのような工夫がされているか、簡単に答えなさい。 (二重窓になっている)
- ② 住居の玄関のとびらはどのような工夫がされているか、簡単に答えなさい。 (木の厚いとびらを使用している)

(2) 下線部 b の針葉樹林を何といますか。カタカナで答えなさい。 (タイガ)

(3) (2)の下には、一年じゅうこおったままの土がある。これを何と呼んでいますか。 (永久凍土)
〔ツンドラ〕