


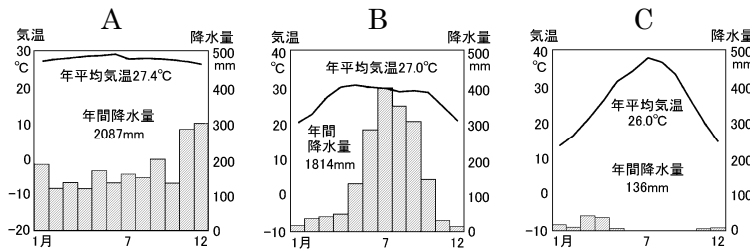
絶対暗記するプリント

世界各地の人々の暮らし ②	実施 /	氏名
---------------	------	----

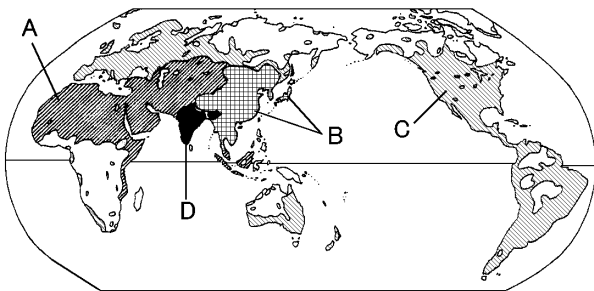
- ① ペルーのアンデス山脈に住む人々の住居は標高何 m ぐらいのところにありますか。 (約 4000 m)
- ② ペルーのアンデス山脈に住む人々の住居はおもに何でつくられていますか。 (石や日干しレンガ)
- ③ アンデス山脈に住む人々が着用する[図1]のようなマントを何といいますか。 (ポンチョ)




- ④ 住居の周辺では毛をとるために放牧している[図2]の家畜を何といいますか。 (アルパカ)
- ⑤ アンデス山脈に住む人々が荷物を運ぶために利用する[図3]の家畜を何といいますか。 (リヤマ)
- ⑥ ④や⑤の家畜のふんは何に利用されていますか。 (燃料や肥料)
- ⑦ 住居より低いところでは主食となる農作物を栽培している。この農作物を答えなさい。 (ジャガイモ・とうもろこし)
- ⑧ タイのバンコクは何という河川の下流にありますか。 (チャオプラヤ川)
- ⑨ ⑧の河川は交通路として利用されています。その例を挙げなさい。 (水上バス)
- ⑩ タイは熱帯に属するが5月から10月ごろまでは降水量が多いため何とよばれますか。 (雨季)
- ⑪ 下のグラフで、フィジーとタイの気候を表したグラフはそれぞれどれですか。 フィジー(A) タイ(B)



- ⑫ タイは川が氾濫するために[図4]の住居が多くみられる。どんな住居といえばよいか。 (高床住居)
- ⑬ 下の地図は世界の宗教の分布を表したものです。A~Dの宗教をそれぞれ答えなさい。



- A(イスラム教) B(仏教)
C(キリスト教) D(ヒンドゥー教)





- ⑭ 地図中の A、C の宗教の経典をそれぞれ何といいますか。 A(コーラン) C(聖書)
- ⑮ A の宗教では、汚れた動物と考えられているため食べない動物は何ですか。 (豚)
- ⑯ A の宗教では金曜日に礼拝所に集まってお祈りをする。この礼拝所を何といいますか。 (モスク)
- ⑰ D の宗教では、神聖な動物と考えられているため食べない動物は何ですか。 (牛)
- ⑱ [図5]、[図6]の写真と関係の深い宗教をそれぞれ記号で答えなさい。 図5(D) 図6(A)

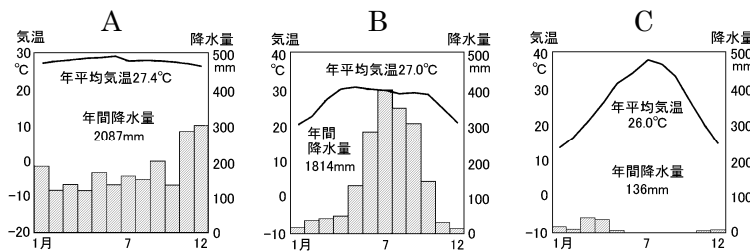
確認テスト

世界各地の人々の暮らし ②	実施 /	氏名
---------------	------	----

- ① ペルーのアンデス山脈に住む人々の住居は標高何 m ぐらいのところにありますか。 ()
- ② ペルーのアンデス山脈に住む人々の住居はおもに何でつくられていますか。 ()
- ③ アンデス山脈に住む人々が着用する[図1]のようなマントを何といいますか。 ()



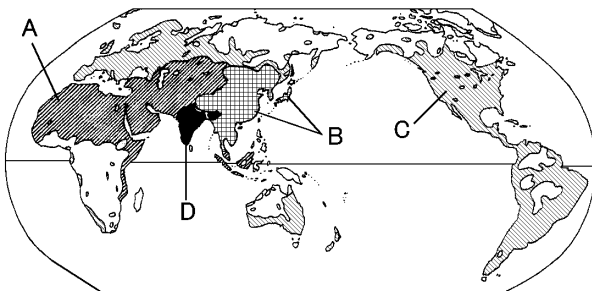
- ④ 住居の周辺では毛をとるために放牧している[図2]の家畜を何といいますか。 ()
- ⑤ アンデス山脈に住む人々が荷物を運ぶために利用する[図3]の家畜を何といいますか。 ()
- ⑥ ④や⑤の家畜のふんは何に利用されていますか。 ()
- ⑦ 住居より低いところでは主食となる農作物を栽培している。この農作物を答えなさい。 ()
- ⑧ タイのバンコクは何という河川の下流にありますか。 ()
- ⑨ ⑧の河川は交通路として利用されています。その例を挙げなさい。 ()
- ⑩ タイは熱帯に属するが5月から10月ごろまでは降水量が多いため何とよばれますか。 ()
- ⑪ 下のグラフで、フィジーとタイの気候を表したグラフはそれぞれどれですか。 フィジー() タイ()



[図4]



- ⑫ タイは川が氾濫するために[図4]の住居が多くみられる。どんな住居といえよいか。 ()
- ⑬ 下の地図は世界の宗教の分布を表したものです。A~Dの宗教をそれぞれ答えなさい。



- A() B()
- C() D()

[図5]



[図6]



- ⑭ 地図中の A、C の宗教の経典をそれぞれ何といいますか。 A() C()
- ⑮ A の宗教では、^{けが}汚れた動物と考えられているため食べない動物は何ですか。 ()
- ⑯ A の宗教では金曜日に礼拝所に集まってお祈りをする。この礼拝所を何といいますか。 ()
- ⑰ D の宗教では、神聖な動物と考えられているため食べない動物は何ですか。 ()
- ⑱ [図5]、[図6]の写真と関係の深い宗教をそれぞれ記号で答えなさい。 図5() 図6()