

# 絶対暗記するプリント

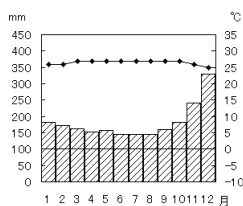
世界各地の人々の暮らし ①

実施 /

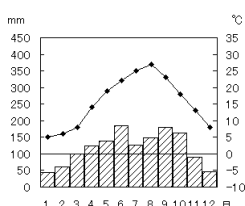
氏名

- ① カナダの北極海沿岸に住むエスキモー族はカナダでは公式に何と呼ばれますか。 ( イヌイト )
- ② ①の民族が暮らす地域の気候帯を何といいますか。 ( 寒帯 )
- ③ ②の気候の気温と降水量を表したグラフは[図1]のどれですか。 ( C )
- ④ ①の人々が冬に狩りや漁を行なうときにつくる[図2]の簡易の住居を何といいますか。 ( イグルー )

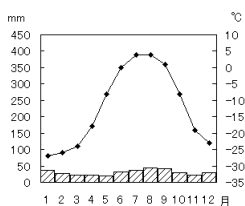
[図1] A



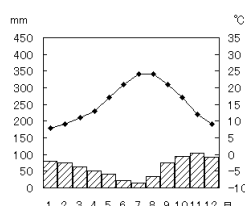
B



C



D



[図2]



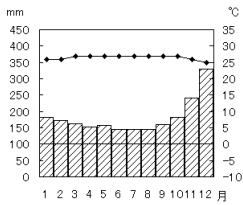
- ⑤ ①の人々が夏に狩猟する野生のトナカイをを何といいますか。 ( カリブー )
- ⑥ 以前は犬ぞりが移動の中心であったが、近年は何に変わりましたか。 ( スノーモービル )
- ⑦ ロシア連邦の国土のうちウラル山脈より東側の地域を何といいますか。 ( シベリア )
- ⑧ ⑦の地域やカナダに広がる針葉樹林帯を何といいますか。 ( タイガ )
- ⑨ ⑧の下にある一年中凍ったままの土を何といいますか。 ( 永久凍土[ツンドラ] )
- ⑩ イタリアは温帯に属するが、日本と異なり夏に乾燥する気候を何といいますか。 ( 地中海性気候 )
- ⑪ イタリアの気候の気温と降水量を表したグラフは[図1]のどれですか。 ( D )
- ⑫ ⑩の気候の地域で栽培される代表的な作物を2つ答えなさい。 ( ぶどう・オリーブ )
- ⑬ アフリカのサハラ砂漠の南に広がる「サハラのふち」と呼ばれる地域を何といいますか。 ( サヘル )
- ⑭ アフリカで行なわれている草原を焼き払って灰を肥料にする農業を何といいますか。 ( 焼畑農業 )
- ⑮ ⑬の地域で起こっている環境問題は何ですか。 ( 砂漠化 )
- ⑯ 一年中高温であるフィジーなどにあるうっそうとした林を何といいますか。 ( 熱帯雨林 )
- ⑰ ⑯は満潮時に海水につかる海岸や入り江にまで広がっている。これを何といいますか。 ( マングローブ )
- ⑱ フィジーなど熱帯の気候の気温と降水量を表したグラフは[図1]のどれですか。 ( A )
- ⑲ フィジーなど南太平洋の島々に暮らす人々の主食は何ですか。2つ答えなさい。 ( ヤムイモ・タロイモ・キャッサバ )
- ⑳ フィジーの重要な輸出品でココヤシからつくられる石鹸などの原料を何といいますか。 ( コプラ )
- ㉑ フィジーがイギリスの植民地であったころ労働力として移住したのはどんな人々ですか。 ( インド系の人々 )
- ㉒ フィジーの伝統的な住居の屋根には何が使用されていますか。 ( ヤシの葉 )

# 確認テスト

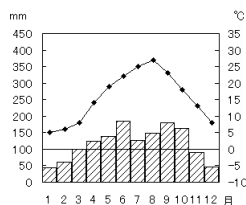
世界各地の人々の暮らし ①	実施 /	氏名
---------------	------	----

- ① カナダの北極海沿岸に住むエスキモー族はカナダでは公式に何と呼ばれますか。 ( )
- ② ①の民族が暮らす地域の気候帯を何といいますか。 ( )
- ③ ②の気候の気温と降水量を表したグラフは[図1]のどれですか。 ( )
- ④ ①の人々が冬に狩りや漁を行なうときにつくる[図2]の簡易の住居を何といいますか。 ( )

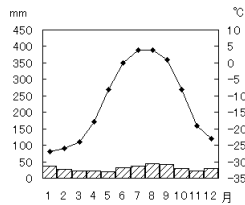
[図1] A



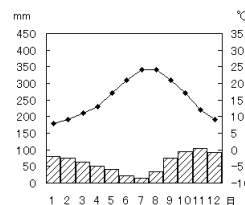
B



C



D



[図2]



- ⑤ ①の人々が夏に狩猟する野生のトナカイをを何といいますか。 ( )
- ⑥ 以前は犬ぞりが移動の中心であったが、近年は何に変わりましたか。 ( )
- ⑦ ロシア連邦の国土のうちウラル山脈より東側の地域を何といいますか。 ( )
- ⑧ ⑦の地域やカナダに広がる針葉樹林帯を何といいますか。 ( )
- ⑨ ⑧の下にある一年中凍ったままの土を何といいますか。 ( )
- ⑩ イタリアは温帯に属するが、日本と異なり夏に乾燥する気候を何といいますか。 ( )
- ⑪ イタリアの気候の気温と降水量を表したグラフは[図1]のどれですか。 ( )
- ⑫ ⑩の気候の地域で栽培される代表的な作物を2つ答えなさい。 ( )
- ⑬ アフリカのサハラ砂漠の南に広がる「サハラのふち」と呼ばれる地域を何といいますか。 ( )
- ⑭ アフリカで行なわれている草原を焼き払って灰を肥料にする農業を何といいますか。 ( )
- ⑮ ⑬の地域で起こっている環境問題は何ですか。 ( )
- ⑯ 一年中高温であるフィジーなどにあるうっそうとした林を何といいますか。 ( )
- ⑰ ⑯は満潮時に海水につかる海岸や入り江にまで広がっている。これを何といいますか。 ( )
- ⑱ フィジーなど熱帯の気候の気温と降水量を表したグラフは[図1]のどれですか。 ( )
- ⑲ フィジーなど南太平洋の島々に暮らす人々の主食は何ですか。2つ答えなさい。 ( )
- ⑳ フィジーの重要な輸出品でココヤシからつくられる石鹼などの原料を何といいますか。 ( )
- ㉑ フィジーがイギリスの植民地であったころ労働力として移住したのはどんな人々ですか。 ( )
- ㉒ フィジーの伝統的な住居の屋根には何が使用されていますか。 ( )