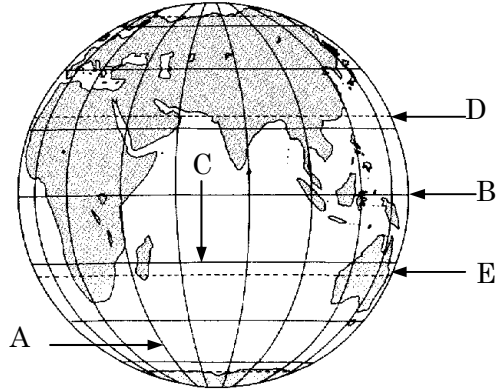


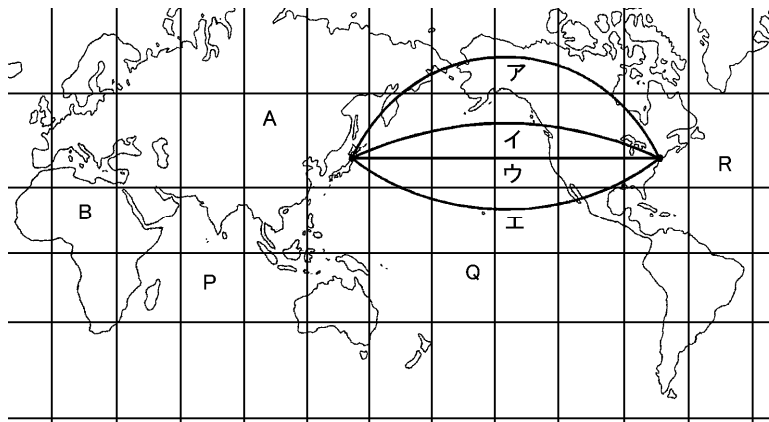
得点	<b>演習問題</b>	実施日	月 日	氏名	
	地球と世界 ③				

【1】 下の図を見て、後の問に答えなさい。



- (1) 上の図の A のように、北極と南極を結ぶ縦線を何といいますか。  
( )
- (2) (1)の線はどこを基準にして、東西何度まで区切られていますか。  
基準( ) 東西( ) 度
- (3) 上の図の横線 B を何といいますか。  
( )
- (4) 上の図の B と平行な横線を何といいますか。また、この線は南北に何度まで、区切られていますか。  
( ) 南北( ) 度
- (4) 太陽が頭上にくる地点の北限は上の図のどれですか。また、その線を何といいますか。  
( ) ( )
- (5) 地球の表面のうち、陸地は約何%ですか。  
( ) %
- (6) 日本の国土面積は約何万 km<sup>2</sup>ですか。  
( 約 ) km<sup>2</sup>
- (7) 面積が最大の国および最小の国はそれぞれ何ですか。  
最大( ) 最小( )

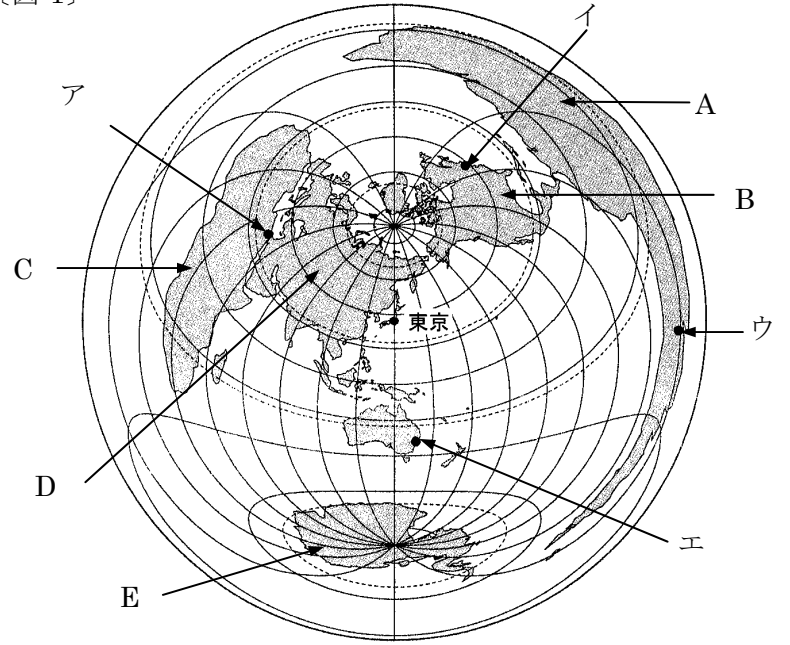
【2】 下の地図について、次の問いに答えなさい。



- (1) 地図中の A・B の大陸名をそれぞれ答えなさい。  
A( )大陸 B( )大陸
- (2) 地図中の P～R の海洋名をそれぞれ答えなさい。  
P( ) Q( ) R( )
- (3) 地図中のア～エのうち、日本からアメリカのニューヨークまでの最短飛行ルートを表しているのはどれですか。右の【3】の図を参考にして答えなさい。  
( )

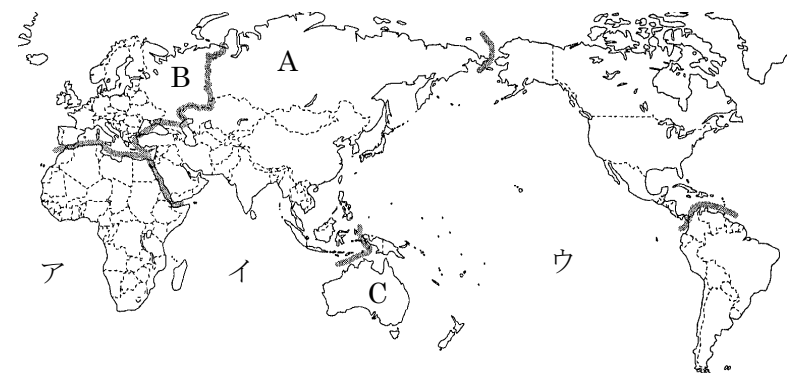
【3】 下の図を見て、後の問に答えなさい。

〔図 1〕



- (1) 上の〔図 1〕で A～E はそれぞれ何大陸を表していますか。また、この図法では、中心にある東京からみた何が正しく表されていますか。2つ答えなさい。  
A( )大陸 B( )大陸  
C( )大陸 D( )大陸  
E( )大陸  
正しく表されているもの ( ) と ( )
- (2) 上の〔図 1〕のア～エの都市のうち東京から最も遠い都市はどれですか。記号を答えなさい。  
( )
- (3) 東京から飛行機で真東に向かって飛び続けると最初に出会う大陸は何大陸ですか。  
( )大陸
- (4) 上の〔図 1〕で赤道はどれですか。矢印で示しなさい。

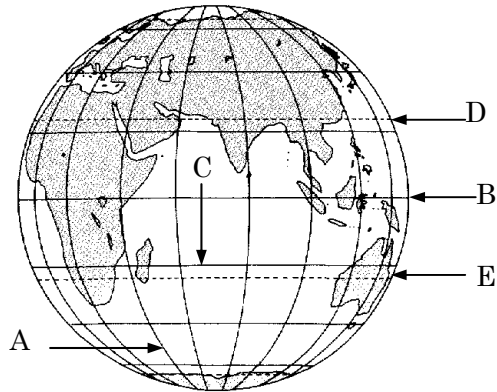
〔図 2〕



- (5) 上の〔図 2〕に表されていない大陸が 1 つある。その大陸名を答えなさい。  
( )大陸
- (6) 上の〔図 2〕で A～C の地域をそれぞれ何州といいますか。  
A( )州 B( )州  
C( )州

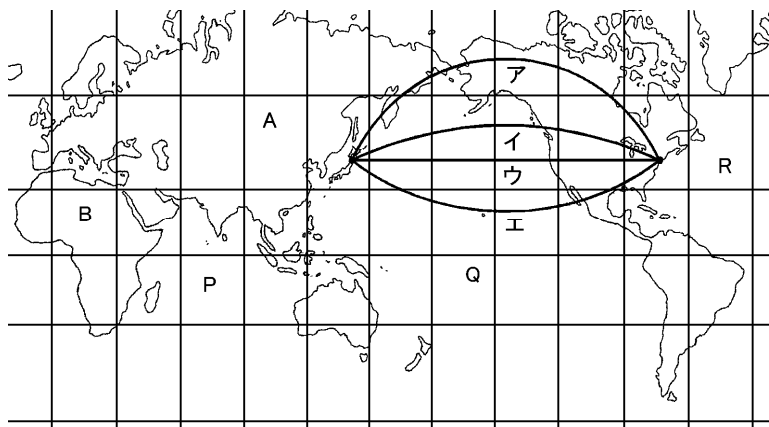
得点	<b>演習問題〔解答〕</b>	地球と世界 ③	実施日	月 日	氏名

【1】 下の図を見て、後の問に答えなさい。



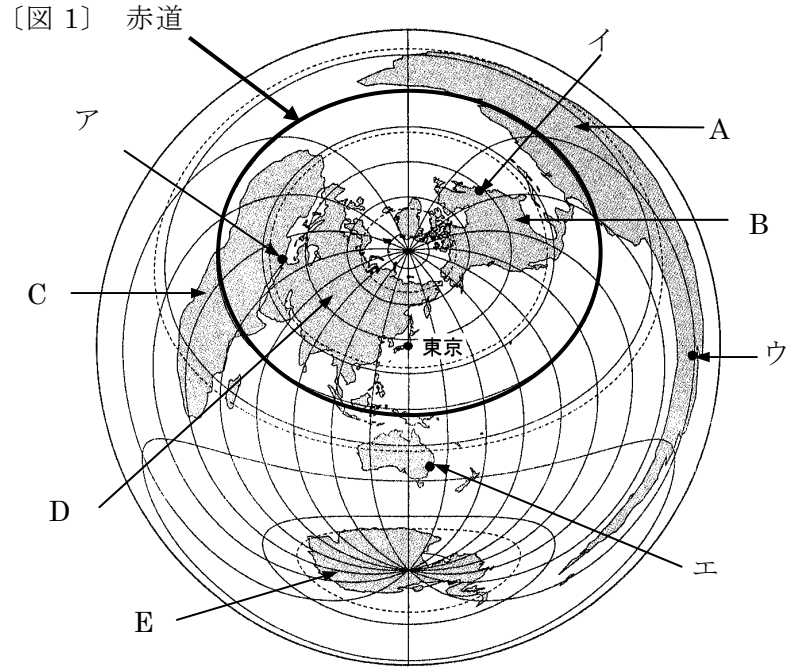
- 上の図の A のように、北極と南極を結ぶ縦線を何といいますか。  
( 経線 )
- (1)の線はどこを基準にして、東西何度まで区切られていますか。  
基準( イギリスのロンドン ) 東西( 180 )度
- 上の図の横線 B を何といいますか。  
( 赤道 )
- 上の図の B と平行な横線を何といいますか。また、この線は南北に何度まで、区切られていますか。  
( 緯線 ) 南北( 90 )度
- 太陽が頭上にくる地点の北限は上の図のどれですか。また、その線を何といいますか。  
( D ) ( 北回帰線 )
- 地球の表面のうち、陸地は約何%ですか。  
( 30 ) %
- 日本の国土面積は約何万 km<sup>2</sup>ですか。  
( 約 38万 ) km<sup>2</sup>
- 面積が最大の国および最小の国はそれぞれ何ですか。  
最大( ロシア連邦 ) 最小( バチカン市国 )

【2】 下の地図について、次の問いに答えなさい。



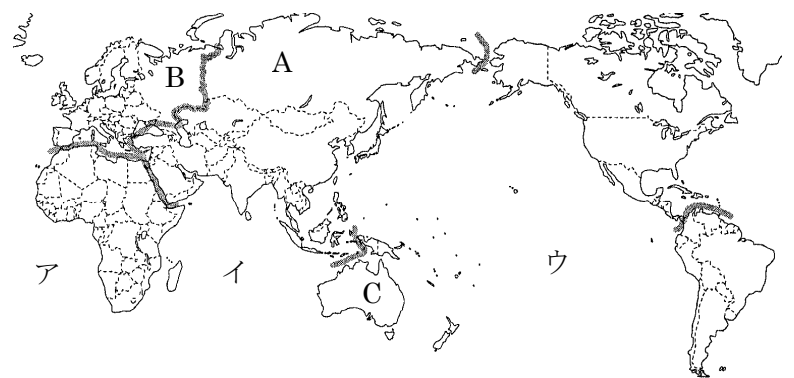
- 地図中の A・B の大陸名をそれぞれ答えなさい。  
A( ユーラシア )大陸 B( アフリカ )大陸
- 地図中の P～R の海洋名をそれぞれ答えなさい。  
P( インド洋 ) Q( 太平洋 ) R( 大西洋 )
- 地図中のア～エのうち、日本からアメリカのニューヨークまでの最短飛行ルートを表しているのはどれですか。右の【3】の図を参考にして答えなさい。  
( ア )

【3】 下の図を見て、後の問に答えなさい。



- 上の【図1】で A～E はそれぞれ何大陸を表していますか。また、この図法では、中心にある東京からみた何が正しく表されていますか。2つ答えなさい。  
A( 南アメリカ )大陸 B( 北アメリカ )大陸  
C( アフリカ )大陸 D( ユーラシア )大陸  
E( 南極 )大陸  
正しく表されているもの ( 距離 と 方位 )
- 上の【図1】のア～エの都市のうち東京から最も遠い都市はどれですか。記号を答えなさい。  
( ウ )
- 東京から飛行機で真東に向かって飛び続けると最初に出会う大陸は何大陸ですか。  
( 南アメリカ )大陸
- 上の【図1】で赤道はどれですか。矢印で示しなさい。

【図2】



- 上の【図2】に表されていない大陸が1つある。その大陸名を答えなさい。  
( 南極 )大陸
- 上の【図2】で A～C の地域をそれぞれ何州といいますか。  
A( アジア )州 B( ヨーロッパ )州  
C( オセアニア )州