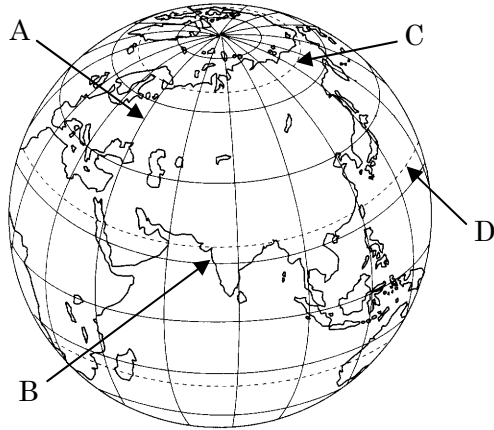


得点		<b>演習問題</b>	実施日	月 日	氏名
		地球と世界 ①			

【1】 下の図を見て、次の問いに答えなさい。



(1) 次の各文の( )内に当てはまる語句や数値を書きなさい。

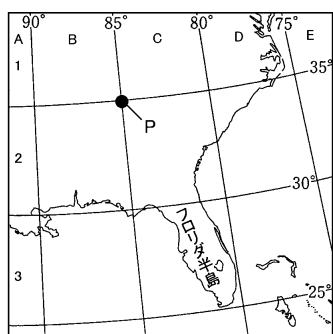
- ① Aは( ア )と呼ばれ、北極と南極を同じ経度で結んだ線である。
- ② Bは( イ )と呼ばれ、赤道と平行に引かれた線である。
- ③ Aはロンドンを通る本初子午線を( ウ )度として、東西それぞれ( エ )度に分けて引かれている。
- ④ Bは赤道を0度として、南北それぞれ( オ )度に分けて引かれている。
- ⑤ A・Bの線は地球上の位置を表すために仮に引かれた線で、本初子午線より東にあって、赤道より北にある場所は( カ )何度、( キ )何度というぐあいに表せる。

ア(            ) イ(            ) ウ(            )  
 エ(            ) オ(            ) カ(            )  
 キ(            )

(2) 次の各文は図中のCとDについて説明したものである。下線部が正しいければ○を、まちがっていれば正しい語句を( )内に書きなさい。

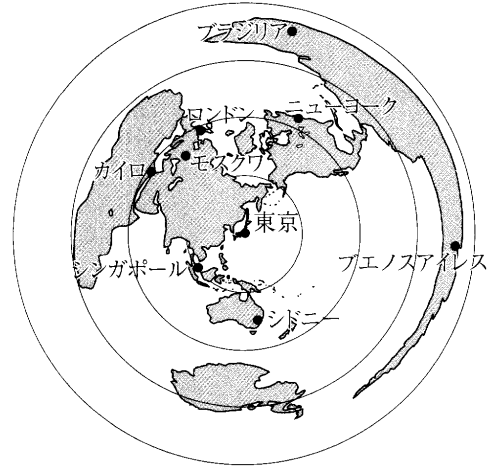
- ① Cは冬至(            )のころ、太陽が地平線から沈まないで、うす明るい白夜が続く北極圏(            )である。
- ② Dは北半球において、太陽が1年を周期として真上にくる北回帰線(            )である。

【2】 下の地図はアメリカ合衆国の一部を表しています。これについて次の問いに答えなさい。



- (1) フロリダ半島の位置を地図帳の索引と同じように「A1」という表し方で表しなさい。 (            )
- (2) 地図中のP地点の緯度と経度を答えなさい。  
 緯度(            )度  
 経度(            )度

【3】 下の図を見て、次の問いに答えなさい。



(1) 右の図の説明として、正しいものには○を、まちがっているものには×を( )内に書きなさい。

- ① 東京からエジプトのカイロまでの距離と方位を調べることができる。 (            )
- ② カイロからイギリスのロンドンまでの距離と方位を知ることができる。 (            )
- ③ ロンドンからアメリカのニューヨークまでの距離を知ることができる。 (            )
- ④ シンガポールは東京の南西に位置することがわかる。 (            )

(2) 東京から見た方位や距離についての説明で、正しいものには○を、まちがっているものには×を( )内に書きなさい。

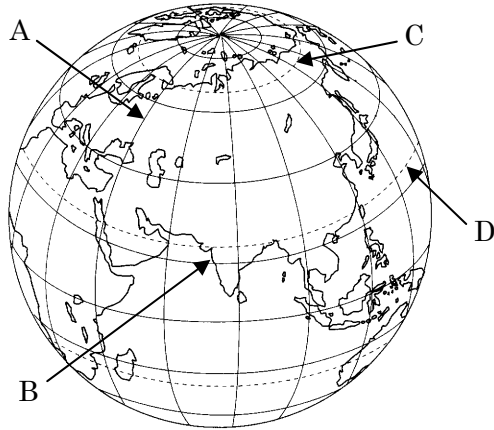
- ① ニューヨークは東京の真東に位置し、ロンドンよりも近い。 (            )
- ② シドニーは東京のほぼ南に位置し、ロンドンよりも近い。 (            )
- ③ ブエノスアイレスは、東京のほぼ東に位置し、最も遠い。 (            )
- ④ モスクワは東京の北東に位置し、シンガポールよりも近い。 (            )

【4】 次の問いに答えなさい。

- (1) 独立国に必要な3要素を漢字で書きなさい。  
 (            )(            )(            )
- (2) 世界は大きく6つの州に分けられるが、アフリカ、ヨーロッパ、アジア、北アメリカとあと2つはどこか書きなさい。  
 (            )(            )
- (3) アジア州は、大きく西、南、中央、東南、東の5つの地域に分けられる、日本はどの地域に属するか書きなさい。  
 (            )
- (4) 世界の国々のうち面積が最も小さい国はどこですか。  
 (            )

得点	<b>演習問題〔解答〕</b>	地球と世界 ①	実施日	月 日	氏名

【1】 下の図を見て、次の問いに答えなさい。



(1) 次の各文の( )内に当てはまる語句や数値を書きなさい。

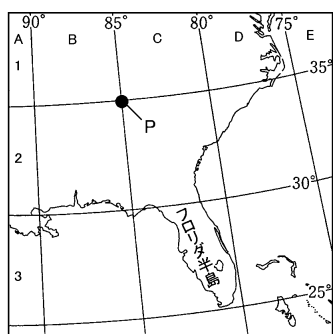
- ① Aは( ア )と呼ばれ、北極と南極を同じ経度で結んだ線である。
- ② Bは( イ )と呼ばれ、赤道と平行に引かれた線である。
- ③ Aはロンドンを通る本初子午線を( ウ )度として、東西それぞれ( エ )度に分けて引かれている。
- ④ Bは赤道を0度として、南北それぞれ( オ )度に分けて引かれている。
- ⑤ A・Bの線は地球上の位置を表すために仮に引かれた線で、本初子午線より東にあって、赤道より北にある場所は( カ )何度、( キ )何度というぐあいに表せる。

ア( 経線 ) イ( 緯線 ) ウ( 0 )  
 エ( 180 ) オ( 90 ) カ( 東経 )  
 キ( 北緯 )

(2) 次の各文は図中のCとDについて説明したものである。下線部が正しいければ○を、まちがっていれば正しい語句を( )内に書きなさい。

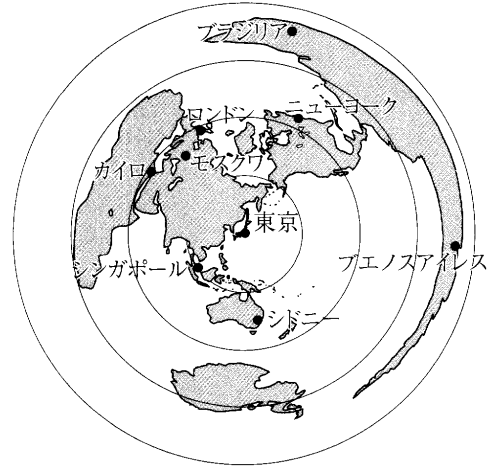
- ① Cは冬至( 夏至 )のころ、太陽が地平線から沈まないで、うす明るい白夜が続く北極圏( ○ )である。
- ② Dは北半球において、太陽が1年を周期として真上にくる北回帰線( ○ )である。

【2】 下の地図はアメリカ合衆国の一部を表しています。これについて次の問いに答えなさい。



- (1) フロリダ半島の位置を地図帳の索引と同じように「A1」という表し方で表しなさい。( C3 )
- (2) 地図中のP地点の緯度と経度を答えなさい。  
 緯度( 北緯 35 度)  
 経度( 西経 85 度)

【3】 下の図を見て、次の問いに答えなさい。



(1) 右の図の説明として、正しいものには○を、まちがっているものには×を( )内に書きなさい。

- ① 東京からエジプトのカイロまでの距離と方位を調べることができる。( ○ )
- ② カイロからイギリスのロンドンまでの距離と方位を知ることができる。( × )
- ③ ロンドンからアメリカのニューヨークまでの距離を知ることができる。( × )
- ④ シンガポールは東京の南西に位置することがわかる。( ○ )

(2) 東京から見た方位や距離についての説明で、正しいものには○を、まちがっているものには×を( )内に書きなさい。

- ① ニューヨークは東京の真東に位置し、ロンドンよりも近い。( × )
- ② シドニーは東京のほぼ南に位置し、ロンドンよりも近い。( ○ )
- ③ ブエノスアイレスは、東京のほぼ東に位置し、最も遠い。( ○ )
- ④ モスクワは東京の北東に位置し、シンガポールよりも近い。( × )

【4】 次の問いに答えなさい。

- (1) 独立国に必要な3要素を漢字で書きなさい。  
( 領土 ) ( 国民 ) ( 主権 )
- (2) 世界は大きく6つの州に分けられるが、アフリカ、ヨーロッパ、アジア、北アメリカとあと2つはどこか書きなさい。  
( 南アメリカ ) ( オセアニア )
- (3) アジア州は、大きく西、南、中央、東南、東の5つの地域に分けられる、日本はどの地域に属するか書きなさい。  
( 東アジア )
- (4) 世界の国々のうち面積が最も小さい国はどこですか。  
( バチカン市国 )