

絶対暗記するプリント

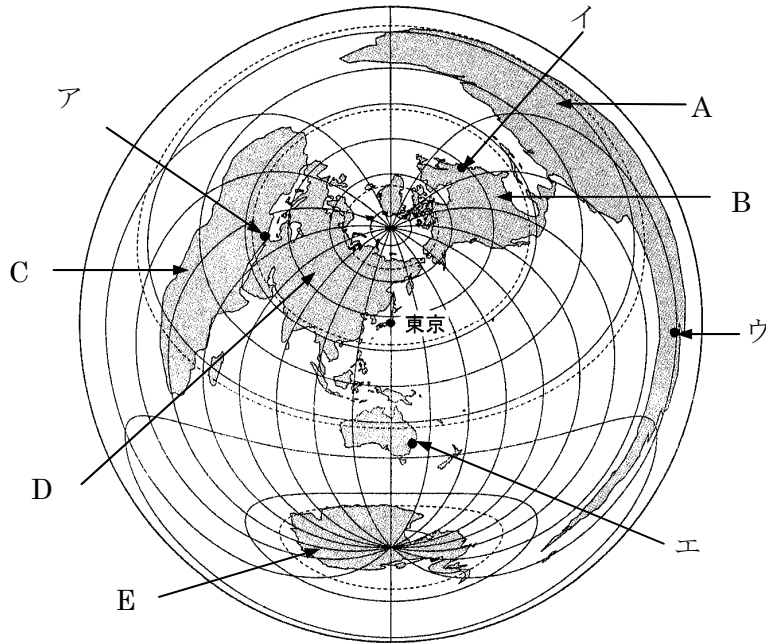
世界の国々 ②

実施

/

氏名

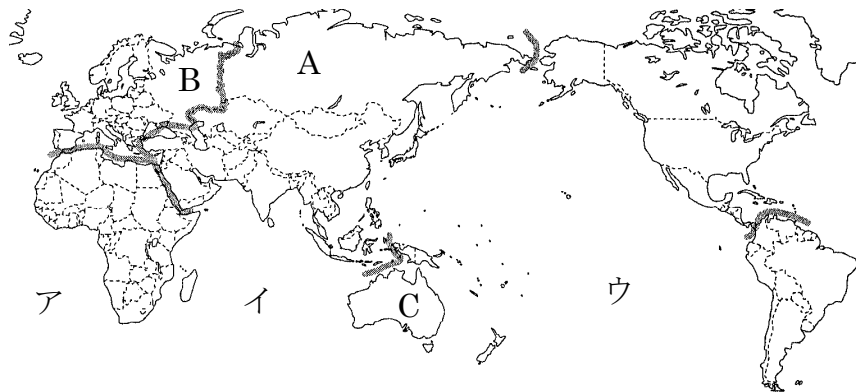
- ① 下の地図で、A～E はそれぞれ何大陸を表していますか。また、この図法では何が正しく表されていますか。2つ答えなさい。



- A(南アメリカ大陸)
 B(北アメリカ大陸)
 C(アフリカ大陸)
 D(ユーラシア大陸)
 E(南極大陸)
 (距離と方位)

- ② 上の地図中のア～エの都市のうち東京から最も遠い都市はどれですか。また、それは東京から見てどの方位にあるといえますか。
 (ウ ・ 東)

- ③ 下の図でA～Cの地域をそれぞれ何州といえますか。



- A(アジア州)
 B(ヨーロッパ州)
 C(オセアニア州)

- ④ 上の地図で、ア～ウの海をそれぞれ何といえますか。
 ア(大西洋) イ(インド洋) ウ(太平洋)

- ⑤ 独立国に必要な3要素は何ですか。 (領土) (国民) (主権)

- ⑥ 日本の子午線はどこを通る、東経何度線ですか。 (兵庫県明石市) 東経(135 度)

- ⑦ ⑤・⑥のことから日本とイギリスの間には何時間の差があることになりますか。 (9 時間)

- ⑧ 日付変更線は、上のア～ウのどの海洋上にありますか。また、日付変更線を西から東に越えるとき日付は 1 日進めますか。それとも遅らせますか。
 (ウ ・ 遅らせる)

確認テスト

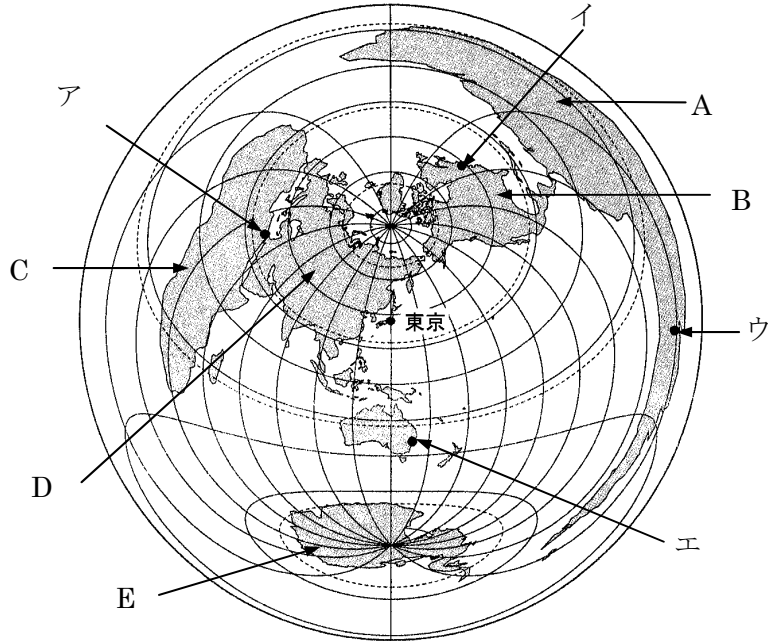
世界の国々 ②

実施

/

氏名

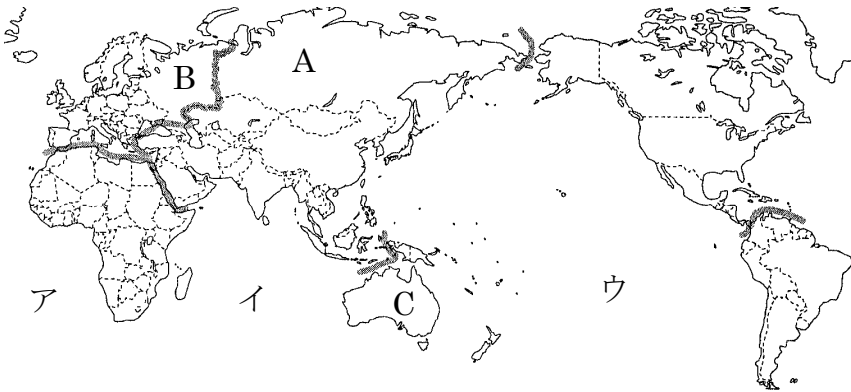
- ① 下の地図で、A～E はそれぞれ何大陸を表していますか。また、この図法では何が正しく表されていますか。2つ答えなさい。



- A()
 B()
 C()
 D()
 E()
 (と)

- ② 上の地図中のア～エの都市のうち東京から最も遠い都市はどれですか。また、それは東京から見てどの方位にあるといえますか。
 (.)

- ③ 下の図でA～Cの地域をそれぞれ何州といえますか。



- A()
 B()
 C()

- ④ 上の地図で、ア～ウの海をそれぞれ何といえますか。

ア()イ()ウ()

- ⑤ 独立国に必要な3要素は何ですか。 ()() ()

- ⑥ 日本の子午線はどこを通る、東経何度線ですか。 ()東経(度)

- ⑦ ⑤・⑥のことから日本とイギリスの間には何時間の差があることになりますか。 (時間)

- ⑧ 日付変更線は、上のア～ウのどの海洋上にありますか。また、日付変更線を西から東に越えるとき日付は1日進めますか。それとも遅らせますか。
 (.)