

絶対暗記するプリント

世界の国々 ①

実施

/

氏名

① 地球の表面のうち、陸地は約何%ですか。 (約 30%)

② 右の図のAのように、北極と南極を結ぶ縦線を何といいますか。
(経線)

③ ②の線はどこを基準にして東西何度まで区切られていますか。
基準(イギリスのロンドン)
東西(180 度)

④ 右の図の横線Bを何といいますか。 (赤道)

⑤ 右の図のBと平行な横線を何といいますか。また、この線は南北に何度まで、区切られていますか。
(緯線) 南北(90 度)

⑥ 太陽が頭上にくる地点の北限は右上の図のどれですか。また、その線を何といいますか。
(D , 北回帰線)

⑦ 日本の子午線は、どこを通る東経何度線ですか。 (兵庫県の明石市) 東経(135 度)

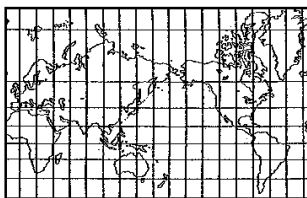
⑧ 六大陸をすべて答えなさい。
(ユーラシア大陸) (北アメリカ大陸) (南アメリカ大陸)
(アフリカ大陸) (オーストラリア大陸) (南極大陸)

⑨ 三大洋をすべて答えなさい。 (太平洋) (大西洋) (インド洋)

⑩ 下の世界地図Aは、何という図法ですか。また、この図法は何が正しく表されていますか。
(メルカトル図法) (角)

⑪ 下の世界地図Bは、何という図法ですか。また、この図法は何が正しく表されていますか。
(正距方位図法) (中心からの距離と方位)

A



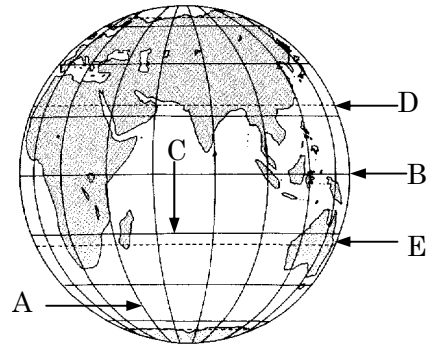
B



⑫ 日本の国土面積は約何万km²ですか。 (約 38 万km²)

⑬ 面積が最大の国および最小の国はそれぞれ何ですか。
最大(ロシア連邦)
最小(バチカン市国)

⑭ 上の地図 A では高緯度の国々は実際より大きく表されていますか、それとも小さく表されていますか。
(大きく表されている)



絶対暗記するプリント

世界の国々 ②

実施

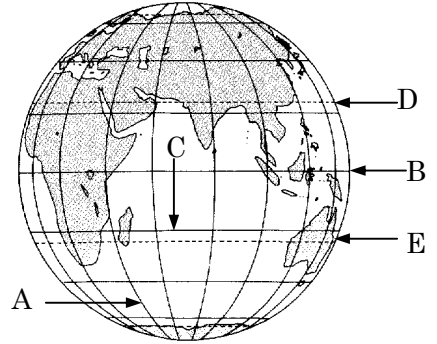
/

氏名

① 地球の表面のうち、陸地は約何%ですか。 () (%)

② 右の図のAのように、北極と南極を結ぶ縦線を何といいますか。
()

③ ②の線はどこを基準にして東西何度まで区切られていますか。
基準()
東西()度



④ 右の図の横線Bを何といいますか。 ()

⑤ 右の図のBと平行な横線を何といいますか。また、この線は南北に何度まで、区切られていますか。
() 南北()度

⑥ 太陽が頭上にくる地点の北限は右上の図のどれですか。また、その線を何といいますか。
() ()

⑦ 日本の子午線は、どこを通る東経何度線ですか。 () 東経()度

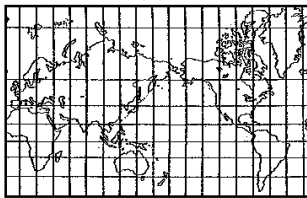
⑧ 六大陸をすべて答えなさい。
() () ()
() () ()

⑨ 三大洋をすべて答えなさい。 () () ()

⑩ 下の世界地図Aは何という図法ですか。また、この図法は何が正しく表されていますか。
() ()

⑪ 下の世界地図Bは、何という図法ですか。また、この図法は何が正しく表されていますか。
() ()

A



B



⑫ 日本の国土面積は約何万km²ですか。 (約) km²)

⑬ 面積が最大の国および最小の国はそれぞれ何ですか。 最大()
最小()

⑭ 上の地図 A では高緯度の国々は実際より大きく表されていますか、それとも小さく表されていますか。
()