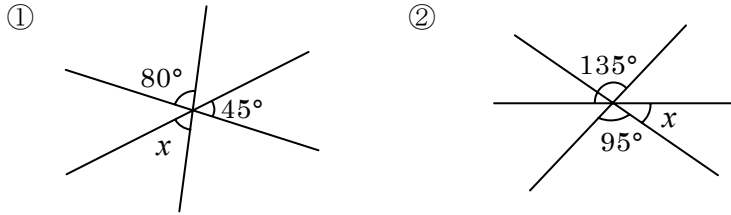
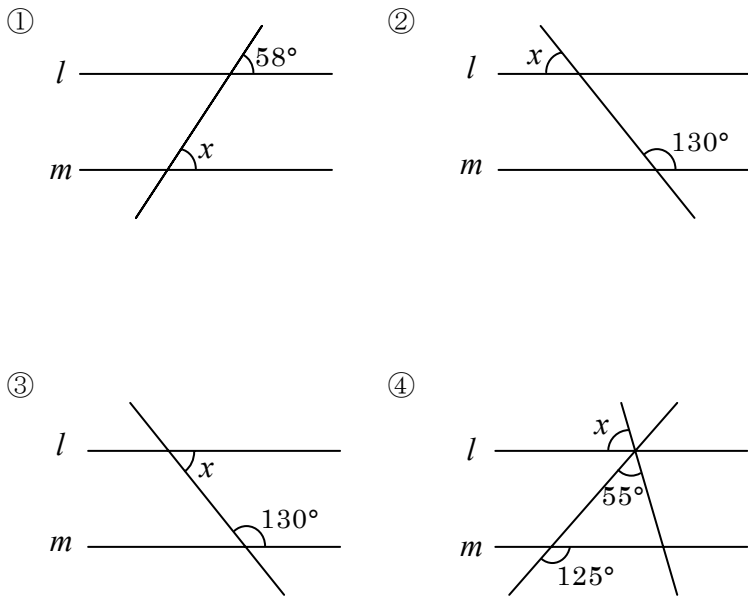


得点		<b>演習問題</b>	実施日	月 日	氏名
		平行線と角			

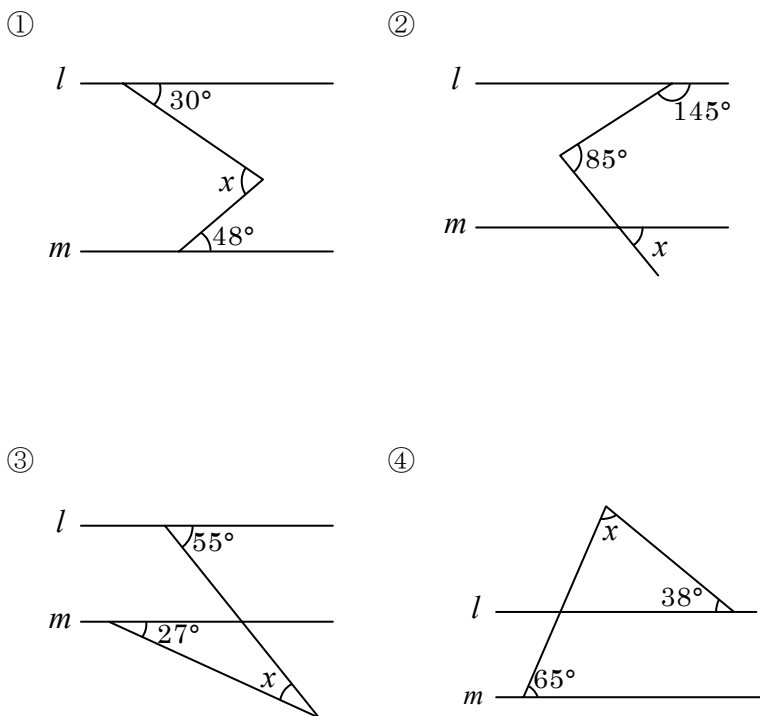
【1】次の図の $\angle x$ の大きさをそれぞれ求めなさい。



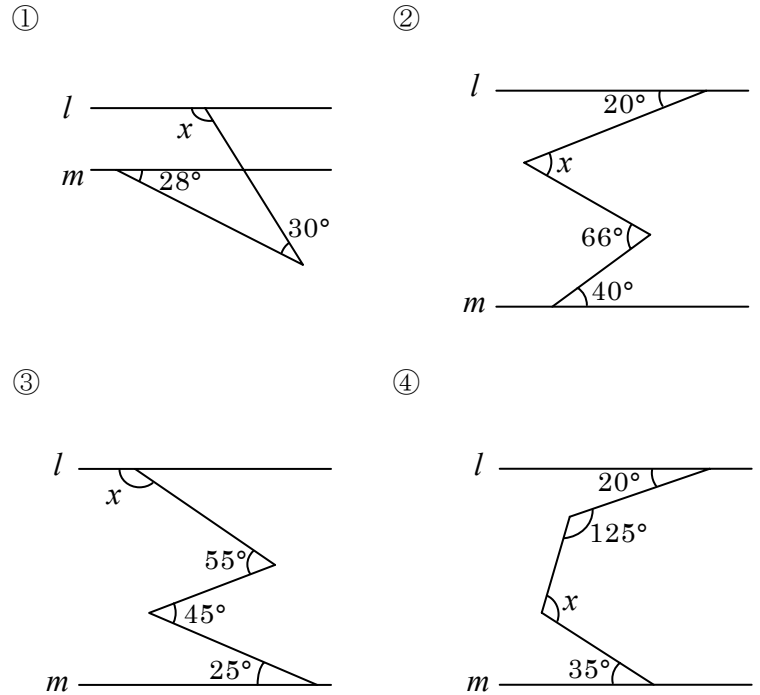
【2】次の図で直線  $l, m$  は平行です。 $\angle x$ の大きさをそれぞれ求めなさい。



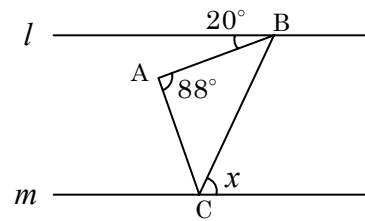
【3】次の図で直線  $l, m$  は平行です。 $\angle x$ の大きさをそれぞれ求めなさい。



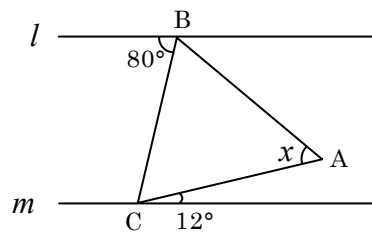
【4】次の図で直線  $l, m$  は平行です。 $\angle x$ の大きさをそれぞれ求めなさい。



⑤ 下の図で  $AB=AC$  とする。



⑥ 下の図で  $AB=AC$  とする。



【5】次の図は長方形の紙を折り曲げたものです。 $\angle x, \angle y$ の大きさをそれぞれ求めなさい。

