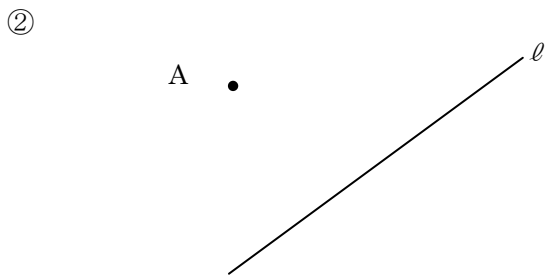
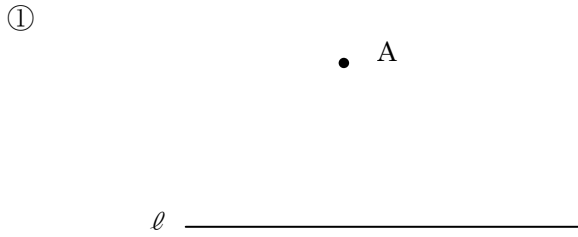
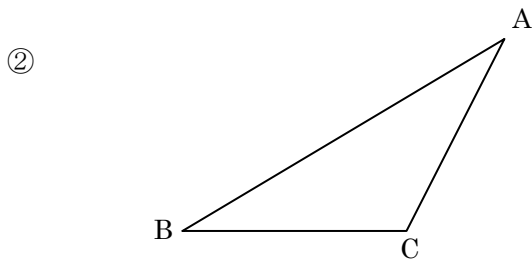
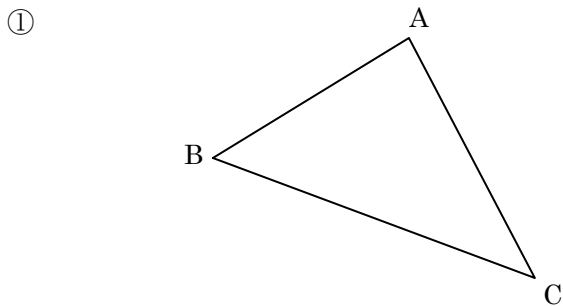


得点		演習問題	実施日	月	日	氏名	

【1】点 A から直線 l への垂線を作図しなさい。



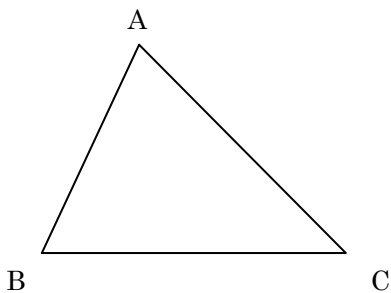
【2】下の図の三角形 ABC で、頂点 A から底辺 BC に下ろした高さ AH を作図しなさい。



【3】下の三角形 ABC について、次の問いに答えなさい。

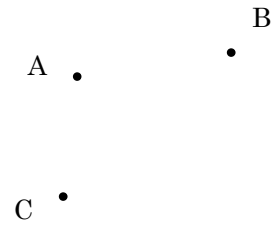
① 3 つの頂点から、それぞれの向かい合う辺に垂線を引きなさい。

② ①で作図した垂線はどのようなになっていますか。

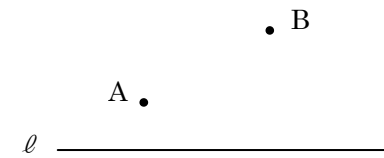


【4】次の作図をしなさい。

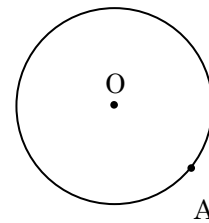
① 3 点 A、B、C を通る円



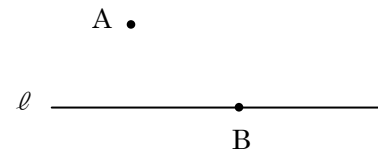
② 直線 l 上に中心があり、点 A、B を通る円



③ 点 A を通る円 O の接線 l



④ 点 A を通り、点 B で直線 l に接する円



⑤ 点 P で辺 OA に接し、辺 OB にも接する円

