

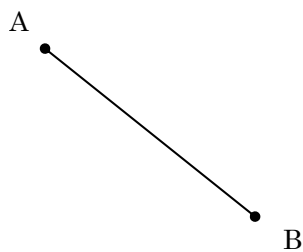
得点	演習問題			実施日	月	日	氏名

【1】線分 AB の垂直二等分線を作図しなさい。

①




②

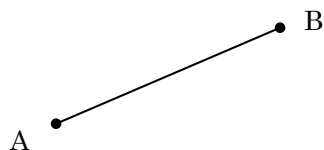


【2】線分 AB の中点 M を作図によって求めなさい。

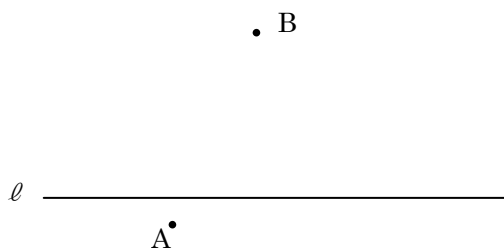
①



②

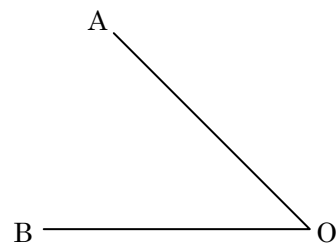


【3】直線 l 上にあって、2 点 A、B からの距離が等しい点 P を作図によって求めなさい。

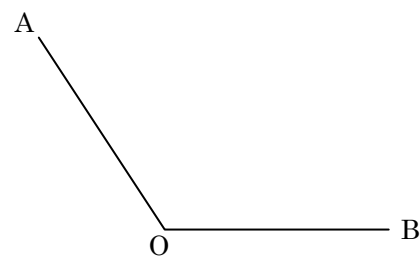


【4】次の $\angle AOB$ の二等分線を作図しなさい。

①




②

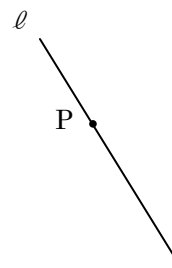


【5】直線 l 上の点 P を通り直線 l に垂直な直線をそれぞれ作図しなさい。

①



②



【6】下の三角形 ABC について、次の問いに答えなさい。

① $\angle A$ 、 $\angle B$ 、 $\angle C$ の二等分線をそれぞれ作図しなさい。

② ①で作図した二等分線はどのようなになっていますか。

